

2022 年高考密破考情卷(一)

思想政治

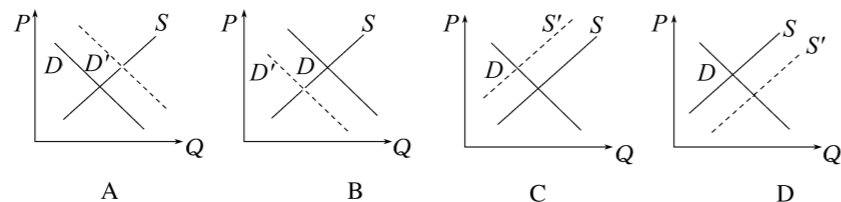
本试卷共 8 页,满分 100 分,考试用时 75 分钟。

注意事项:

1. 答题前,考生务必将自己的姓名、准考证号填写在答题卡上。
2. 回答选择题时选出每小题答案后,用铅笔把答题卡上对应题目的答案标号涂黑。如需改动,用橡皮擦干净后,再选涂其他答案标号。回答非选择题时,将答案写在答题卡上,写在本试卷上无效。
3. 考试结束后,将本试卷和答题卡一并交回。

一、选择题:本题共 16 小题,每小题 3 分,共 48 分。在每小题给出的四个选项中,只有一项是符合题目要求的。

1. 2021 年 6 月 28 日起,中国邮政官宣提速,在公路、高铁、航空方面“三管齐下”,让邮件“次日达”成为可能。专家表示,中国邮政这一举措势必掀起整个快递行业一阵“内卷”(即同行间竞相付出更多努力以争夺有限资源),下列可以正确表示这一“内卷”的图示是(S 、 S' 分别表示其他快递行业变化前后的供给曲线, D 、 D' 分别表示其他快递行业变化前后的需求曲线, P 表示其他快递行业的价格)



2. 党的十九届五中全会提出了坚持创新在我国现代化建设全局中的核心地位,把科技自立自强作为国家发展的战略支撑。2021 年 11 月 11 日,党的十九届六中全会指出,加快构建新发展格局,经济保持较好发展态势,科技自立自强积极推进。关于实现科技自立自强,下列说法正确的是
- ① 自主创新的科技成果才能转化为现实生产力
 - ② 推动我国传统产业转型升级,助力高质量发展
 - ③ 实行揭榜挂帅制度,降低科技型企业经营风险
 - ④ 加大基础研究投入,着力突破关键核心技术
- A. ①② B. ①③ C. ②④ D. ③④

3. 2021 年 3 月 31 日,财政部等 6 部门联合发布《中央财政衔接推进乡村振兴补助资金管理办法》,对中央财政衔接推进乡村振兴补助资金作出全面规定。为

支持巩固拓展脱贫攻坚成果与乡村振兴有效衔接,原中央财政专项扶贫资金调整优化为中央财政衔接推进乡村振兴补助资金(以下简称“衔接资金”),中央财政 2021 年预算安排衔接资金 1 561 亿元,比上年增加 100 亿元。这一举措

- ① 显示了财政投入立足长远,着眼可持续性
- ② 促进政府投资增加,形成新的供给
- ③ 将刺激社会消费需求增加,促进经济发展
- ④ 将直接增加劳动者收入,消除城乡差距

A. ①② B. ①③ C. ②④ D. ③④

4. 2021 年 2 月 9 日,光明日报撰文指出:优化营商环境要着力破除隐形壁垒,市场准入更加宽松;依法保障各种所有制企业平等竞争,清理废除妨碍统一市场和公平竞争的各种规定和做法;大幅放宽外资准入领域,大力削减外资审批事项。优化营商环境有利于

- ① 发挥非公有制经济战略支撑作用
- ② 坚持和完善我国的基本经济制度
- ③ 发挥社会主义市场经济体制优势
- ④ 扩大境外进口推动建设贸易强国

A. ①② B. ①④ C. ②③ D. ③④

5. 2021 年 3 月 1 日起,最新《中华人民共和国刑法修正案》生效,“高空抛物”正式入刑。当天,江苏常州溧阳市人民法院审理了全国首例高空抛物罪案件,被告人徐某因与人发生言语争执,先后从楼上抛下两把菜刀,最终因犯高空抛物罪被判处有期徒刑 6 个月,并处罚金 2 000 元。这启示公民要

- ① 依法有序参与政治生活,不断提高自身政治素养
- ② 公正司法、严格执法,积极营造良好的社会风尚
- ③ 规范义务的履行,坚持权利与义务相统一原则
- ④ 遵守宪法和法律,在生活中尊法学法守法用法

A. ①② B. ①③ C. ②④ D. ③④

6. 2021 年是西藏和平解放 70 周年。二十多年来,福建省按照中央部署,精挑细选派出 9 批 484 名援藏干部人才先后进藏开展工作,从 2016 年 7 月起,福建对口支援西藏的地区从“西藏江南”林芝调整到“雪域高原”昌都,并分别安排福州市对口援建八宿县、厦门市对口援建左贡县、泉州市对口援建洛隆县、漳州市及龙岩市共同对口援建边坝县。当前我国已经形成了经济援藏、企业援藏等“组团式”援藏格局,促进西藏全面发展。由此可见在我国

- ① 充分赋予民族区域自治地方自治权
- ② 保障少数民族同胞当家作主的权利
- ③ 民族平等和各民族共同繁荣是民族团结的基础
- ④ 已经形成了平等团结互助和谐的新型民族关系

A. ①② B. ①③ C. ②④ D. ③④

准考证号

姓名

考场

考点

7. 2021年8月5日,国家主席习近平向新冠疫苗合作国际论坛首次会议发表书面致辞时强调,中国始终秉持人类卫生健康共同体理念,向世界特别是广大发展中国家提供疫苗,积极开展合作生产……中国决定向“新冠疫苗实施计划”捐赠1亿美元,用于向发展中国家分配疫苗。这表明我国 ()
- ①坚持开放合作,为全球卫生治理注入中国力量
②坚定维护发展中国家的国家利益,促进共同发展
③作为负责任大国,在国际社会中发挥建设性作用
④坚持权利与义务的统一,积极履行对外职能
- A. ①③ B. ①④ C. ②③ D. ②④
8. “中国农民丰收节”自设立后,已逐渐成为三农领域最鲜明的文化符号和最醒目的节日标识。2021年举办的第四届“中国农民丰收节”在促进产销对接、打造农业品牌等方面发挥了突出作用,广大农民从卖农产品到卖风景、卖环境,致富增收的路子越走越宽广。“中国农民丰收节”的举办 ()
- ①丰富了农民的精神文化生活,有利于增强农民的幸福感
②推动了中华农耕文化的回归,有利于坚定民族文化自信
③促进了文化与经济融合发展,有利于拉动乡村产业振兴
④创新了农耕文化的基本理念,有利于丰富文化的多样性
- A. ①② B. ①③ C. ②④ D. ③④
9. 电影《中国医生》根据2020年抗击新冠肺炎疫情真实事件改编,讲述了中国各地的白衣逆行者在浩大“疫”中纷纷挺身而出、浴血奋战在前线,不顾自身安危守护国人生命安全的震撼故事。该影片口碑爆棚,承载了时下观众对高质量文艺作品的深层次需求。《中国医生》的成功说明 ()
- ①文艺创作要坚持以人民为中心 ②优秀文化作品能够增强精神力量
③文艺创作要立足现实反映时代 ④大众传媒是文化传播的主要手段
- A. ①② B. ①③ C. ②④ D. ③④
10. 张载是我国宋代著名的思想家、教育家,他的“为天地立心,为生民立命,为往圣继绝学,为万世开太平”曾多次被国家领导人引用。下列关于张载的观点体现的哲学派别,与孟子的“心之官则思”相对立的是 ()
- ①太虚无形,气之本体
②合性与知觉,有心之名
③心大则百物则通,心小则百物皆病
④凡可状皆有也,凡有皆象也,凡象皆气也
- A. ①② B. ②③ C. ①④ D. ③④
- 2021年11月8日,十九届六中全会在京召开。习近平总书记就《中共中央关于党的百年奋斗重大成就和历史经验的决议(讨论稿)》向全会作了说明。总结成就经验是基于在新时代坚持和发展中国特色社会主义的需要,是确保全党步调一致向前进的需要,是推进党的自我革命,永葆党的生机活力的需要。据此完成11、12题。

11. 上述材料体现的哲学道理是 ()
- ①坚持矛盾的普遍性与特殊性、共性与个性的具体的历史的统一
②坚持辩证法的革命批判精神
③掌握系统优化方法
④实践是认识的来源和动力
- A. ①② B. ②③ C. ①④ D. ③④
12. 《中共中央关于党的百年奋斗重大成就和历史经验的决议》指出,一百年来,党坚持性质宗旨,坚持理想信念,坚守初心使命,勇于自我革命,在生死斗争和艰苦奋斗中经受住各种风险考验、付出巨大牺牲,锤炼出鲜明政治品格,形成了以伟大建党精神为源头的精神谱系,保持了党的先进性和纯洁性。中国共产党人的精神谱系 ()
- ①是对伟大的中华民族精神的丰富和发展
②是对伟大的中华民族精神的归纳和概括
③共同彰显了爱国主义这一核心和主题
④是世界各族人民共同的价值追求和支柱
- A. ①② B. ①③ C. ②④ D. ③④
13. 2021年6月29日,中共中央总书记习近平向马毛姐等29位共产党员颁授“七一勋章”。勋章获得者们信念坚定,对党忠诚;践行宗旨,为了人民根本利益和美好生活,呕心沥血,拼搏奋战;勤勉务实,忘我工作、奋发有为,成就非凡功绩;不怕牺牲,危难时刻挺身而出,用生命践行使命。这说明 ()
- ①实现人生价值要以社会提供的客观条件为前提
②优秀共产党员在劳动和奉献中创造了人生价值
③坚定理想信念自我,才能走出成功的人生道路
④实现自我价值需要积极投身为人民服务的实践
- A. ①③ B. ①④ C. ②③ D. ②④
14. 作为一部内容丰富、意义巨大的奇书,《山海经》一直以令人遐想和讶异的内容被世人津津乐道。但《山海经》一书的作者至今没有定论:有人认为是禹、伯益所作;也有人认为作者并非一人,到西汉时有人合编而成。对于该书的作者的不同见解,应坚持的观点是 ()
- ①真理具有反复性、无限性和上升性,追求真理的过程不会一帆风顺
②真理是具体的、有条件的,难免受到历史条件的制约
③真理是客观的,真理与谬误的界限不容混淆
④对于同一确定对象,真理只有一个
- A. ①② B. ①④ C. ②③ D. ③④
15. 枪支暴力已成为美国社会的一个“顽疾”,每次重大枪击事件发生后,美国社会有关“拥枪”和“控枪”的争论热度都会升高。在枪支管控问题上,民主党与共和党的态度可谓泾渭分明,前者倾向加强枪支管制,后者则几乎完全反对。但迫于美国全国步枪协会等拥枪团体的强大影响力,有关枪支管控的联邦立

法举步维艰,导致枪支暴力在美国成了一个无解的难题。这表明,在美国 ()

- ①控枪问题上的分歧不会改变两党制的实质
 - ②少数利益集团对国家决策产生决定性作用
 - ③联邦制是调和国内阶级矛盾的有效形式
 - ④权力的分立与制衡导致美国枪击事件频发
- A. ①② B. ①④ C. ②③ D. ③④

16. 人民民主是一种全过程的民主,所有重大立法决策都是依照程序,经过民主酝酿,通过科学决策、民主决策产生的,这是中国特色社会主义民主政治的一个显著特征。2021年3月11日,第十三届全国人大四次会议表决通过的关于修改全国人民代表大会组织法的决定,将“全国人大及其常委会坚持全过程民主”明确写入了法律。此举 ()

- ①是人大决策始终体现公民意志、保障公民权益的内在要求
 - ②确立了全过程民主作为人民代表大会制度组织原则的地位
 - ③有利于让我国“人民当家作主”的制度堡垒更加坚实稳固
 - ④能够健全和完善我国根本政治制度,筑牢发展的制度基础
- A. ①② B. ①④
C. ②③ D. ③④

二、非选择题:共52分。

17. 阅读材料,完成下列要求。(20分)

材料一 在向第二个百年奋斗目标迈进的历史关口,解决农业“卡脖子”问题,实现乡村振兴将是我国农业农村工作的重点内容。2021年中央农村工作会议特别强调,解决农业“卡脖子”问题需要坚持农业科技创新,坚持农业科技自立自强,加快推进农业关键核心技术攻关。

坚持农业科技创新,要着眼于加快农业现代化步伐,调整优化农业资源,创新农业农村体制机制,在稳定粮食和重要农产品产量、保障国家粮食安全和重要农产品有效供给的同时,加快转变农业发展方式,加快农业技术创新步伐,走出一条符合市场要求的现代农业发展道路。要支持高校联合农村开展农业人才培养专项资源库建设,科研人员要把论文写在大地上,让农民用最好的技术种出最好的粮食。要严格落实知识产权保护制度,积极为国际资本在农投资营造良好环境,利用国际创新资源提升农业发展水平,建设具有全球影响力的农业科技和产业高地。

材料二 近年来,被誉为“千年兰乡”的F村,沐改革开放和乡村振兴的春风,走出了一条独特的振兴发展之路。为建设礼仪之乡,该村建成文化礼堂、兰文化特色馆等多种功能场所,并定期开展民俗活动和文艺活动;通过结合“晒家风家训”、文明家庭与星级庭院创建,开展文明家庭等评选,培育积极向上的家庭文化;通过组织文艺演出、好媳妇好公婆等身边的道德模范与好人评选等活动,激发村民道德情感,提高思想道德水平。通过这一系列举措,该村村风日益文明,村民崇德向善,初步建成文明礼仪之乡。

(1)结合上述材料一,运用经济生活知识,分析我国应如何解决农业“卡脖子”问题。(12分)

(2)结合材料二,运用文化生活有关知识,说明F村建设礼仪之乡所采取的各项措施的合理性。(8分)

18. 阅读材料,完成下列要求。(10分)

为贯彻落实党中央、国务院关于深入打好污染防治攻坚战决策部署,切实改善生态环境质量,保障人民群众环境权益,2021年1月6日,生态环境部发布《关于优化生态环境保护执法方式提高执法效能的指导意见》。

指导意见明确执法职责,要求切实落实行政执法责任,创新执法机构自身工作制度,完善“双随机、一公开”监管制度,优化执法方式,高效统筹行政执法资源,提高对违法问题的发现率。指导意见明确完善执法机制,着力提升行政执法效能,充分发挥广大人民群众力量,帮助执法部门发现和查处违法问题。指导意见要求规范执法工作,推行行政执法公示制度、落实执法全过程记录制度、规范行政处罚自由裁量权。

结合材料和政治生活知识,说明生态环保部门应如何推进生态环境保护。

19. 阅读材料,完成下列要求。(6分)

2021年10月25日,国家主席习近平在中华人民共和国恢复联合国合法席位50周年纪念会议上的讲话中指出,我们应该坚决维护联合国权威和地位,共同践行真正的多边主义。推动构建人类命运共同体,需要一个强有力的联合国,需要改革和建设全球治理体系。世界各国应该维护以联合国为核心的国际体系、以国际法为基础的国际秩序、以联合国宪章宗旨和原则为基础的国际关系基本准则。国际规则只能由联合国193个会员国共同制定,不能由个别国家和国家集团来决定。国际规则应该由联合国193个会员国共同遵守,没有也不应该有例外。对联合国,世界各国都应该秉持尊重的态度,爱护好、守护好这个大家庭,决不能合则利用、不合则弃之,让联合国在促进人类和平与发展的崇高事业中发挥更为积极的作用。中国愿同各国秉持共商共建共享理念,探索合作思路,创新合作模式,不断丰富新形势下多边主义实践。

结合材料,运用国家和国际组织常识知识,回答中国为何主张加强和完善以联合国为核心的全球治理体系。

20. 阅读材料,完成下列要求。(16分)

材料一 2021年8月20日,第十三届全国人大常委会第三十次会议表决通过了关于修改人口与计划生育法的决定。自公布之日起施行。修改后的人口计生法规定,国家提倡适龄婚育、优生优育,一对夫妻可以生育三个子女。2001年12月,九届全国人大常委会第二十五次会议通过了人口与计划生育法,自2002年9月1日起施行。2015年实施全面两孩政策时,全国人大常委会对该法作了第一次修改。人口与计划生育法施行以来,对落实计划生育基本国策,促进人口与经济、社会、资源、环境协调发展,发挥了重要作用。为适应我国人口与经济社会发展新形势,党的十九届五中全会提出,优化生育政策,增强生育政策包容性,促进人口长期均衡发展。

材料二 “法者,治之端也”,意为法律制度的制定与执行是实现大治的起点。此语出自《荀子·君道篇》。荀子认为,一个国家严守法纪,才能兴旺繁荣;否则,国家一定会衰弱败亡。

(1)结合材料一,并运用“社会发展规律”的相关知识,说明修改人口与计划生育法的必要性。(10分)

(2)根据材料二,请就修改人口与计划生育法写一段时评。(6分)

要求:①主题鲜明,观点正确,逻辑严谨;②使用思想政治学科术语;③严禁抄袭给定材料;④字数不少于150字。

2022 年高考密破考情卷(二)

思想政治

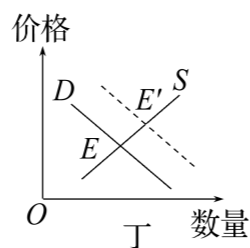
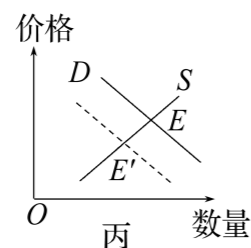
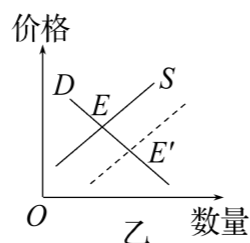
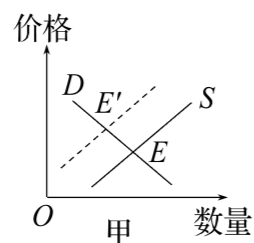
本试卷共 8 页,满分 100 分,考试用时 75 分钟。

注意事项:

1. 答题前,考生务必将自己的姓名、准考证号填写在答题卡上。
2. 回答选择题时选出每小题答案后,用铅笔把答题卡上对应题目的答案标号涂黑。如需改动,用橡皮擦干净后,再选涂其他答案标号。回答非选择题时,将答案写在答题卡上,写在本试卷上无效。
3. 考试结束后,将本试卷和答题卡一并交回。

一、选择题:本题共 16 小题,每小题 3 分,共 48 分。在每小题给出的四个选项中,只有一项是符合题目要求的。

1. 需求曲线与供给曲线相交于 E 点。如果不考虑其他因素,当某种条件发生变化时,会引起 E 点向 E' 点移动。图中 E 向 E' 点的移动与所给条件相一致的是 ()



- ① 种植西瓜的果农减少,加之冰雹等自然灾害的影响,2021 年夏西瓜价格如甲图变化
 - ② 网络直播间带货消费渐成主流,对直播商品价格的影响如乙图变化
 - ③ 全球汽车芯片告急,汽车供需状况发生丙图变化
 - ④ 随着暑期的到来,上海游乐园门票的预订情况发生丁图变化
- A. ①② B. ①④ C. ②③ D. ③④

2. 在福州某商业一条街上,快餐店一家挨一家,家电零售门店相邻而居,服装、小商品、电子科技产品的商家扎堆经营。商业一条街经营模式促进经济发展的传导路径是 ()

- ① 利用行业资源→激发创新活力 ② 共享消费群体→增强盈利能力
③ 降低经营成本→提高经济效益 ④ 利用市场环境→降低投资风险
- A. ①→②→④→③ B. ②→①→④→③
C. ④→②→③→① D. ④→③→②→①

3. 2021 年 7 月 1 日,习近平总书记在庆祝中国共产党成立 100 周年大会上庄严宣告,我们在中华大地上全面建成了小康社会。7 月 28 日,《全面建成小康社会大事记》在《人民日报》刊发。我国全面建成了小康社会说明 ()

- ① 中国特色社会主义的经济实力进一步提升
② 坚持党的领导是市场经济的最根本的特征
③ 实现共同富裕是社会主义社会的根本原则
④ 市场经济的根本目标是实现同步共同富裕
- A. ①③ B. ①④ C. ②③ D. ②④

4. 2021 年 7 月 30 日,中共中央政治局召开会议分析研究当前经济形势和经济工作,再次强调增强产业链供应链自主可控能力,这是构建新发展格局的关键所在。构建新发展格局要 ()

- ① 强化合作开放,提升国内大循环的效率和水平
② 建立独立的产业链供应链,及时有效应对国际经济波动
③ 发挥内需潜力,更好联通和利用国内国际两个市场
④ 立足自力更生,降低我国经济的对外依存度
- A. ①② B. ①③ C. ②④ D. ③④

5. 垃圾分类事关城市高质量发展、高质量生活,维系着市民群众的幸福感、满意度。垃圾分类房是开展垃圾分类工作的重要设施、关键环节。随着福建 R 市城镇垃圾分类工作的全面推开,预计 2021 年 12 月底前 280 座生活垃圾房全部竣工并投入使用。当市民对生活垃圾房建设工作有疑问时,可通过官方渠道与其沟通交流。作为市民,在参与垃圾分类的决策过程中,你可以通过 ()

- ① 社情民意反映制度提出意见和建议
② 行使决策权,通过政协委员提出自己的意见
③ 社会听证制度发现方案中存在的问题
④ 行使管理权,要求召开居民会议讨论垃圾分类问题
- A. ①③ B. ①④ C. ②③ D. ②④

6. 1998 年,2011 年,2021 年 7 月……习近平总书记曾多次赴西藏考察调研。这次正值西藏和平解放 70 周年之际,作为中共中央总书记、国家主席、中央军委主席到西藏庆祝西藏和平解放,这在党和国家历史上是第一次。在党的方针政策指引下,雪域高原正在奋力谱写长治久安和高质量发展新篇章。这得益于 ()

点金榜

- ①把民族团结作为当前的中心工作
 ②民族区域自治制度保证民族自治地方自主管理本地区内部事务
 ③保障了少数民族在国家政治生活的特殊地位,调动了少数民族的积极性
 ④社会主义制度的建立,调动了西藏人民的创造性和积极性
 A. ①③ B. ①④ C. ②③ D. ②④
7. 2021年10月25日,国家主席习近平在中华人民共和国恢复联合国合法席位50周年纪念会议上的讲话中指出,“青山一道同云雨,明月何曾是两乡”。让我们携起手来,站在历史正确的一边,站在人类进步的一边,为实现世界永续和平发展,为推动构建人类命运共同体而不懈奋斗!这说明中国 ()
 ①协助各国管辖其内政和国际事务 ②坚持走独立自主的和平发展道路
 ③是促进世界和平发展的坚定力量 ④尊重别国的主权安全和一切利益
 A. ①③ B. ①④ C. ②③ D. ②④
8. 中国象棋是中华民族的文化瑰宝,它融体育、科学、艺术、文化于一身,意趣盎然,历史悠久。象棋对弈中,引人入胜的对局,构思精巧的排局,往往令人拍案叫绝。象棋文化 ()
 ①开发智力,保证人的健康成长 ②激发斗志,培养人的艺术才能
 ③充实生活,丰富人的精神世界 ④提高素质,促进人的全面发展
 A. ①② B. ①③ C. ②④ D. ③④
9. 革命博物馆、党史馆、烈士陵园等是党和国家的红色基因库。福建某地通过改善基础设施,开展实景演出,充分利用好红色资源,带火了红色旅游、推动了革命文物的保护和革命文化的传承。这表明 ()
 A. 红色革命文化是推动经济发展的重要力量
 B. 对革命文物保护性利用创新了文化的内涵
 C. 创造性转化活动使革命文物有了自身价值
 D. 红色革命文化是中华民族精神的集中体现
- 2021年12月8日至10日,中央经济工作会议在北京举行。据此完成10、11题。
10. 中央经济工作会议强调,做好2022年经济工作,要强化国家战略科技力量,发挥好国家实验室作用,重组全国重点实验室,推进科研院所改革。强化企业创新主体地位,深化产学研结合。完善优化科技创新生态,形成扎实的科研作风。从文化建设角度看,我国关键是要 ()
 ①加强道德建设,提高全民族思想道德素质
 ②繁荣文化事业,满足人们高层次文化需求
 ③重视教育事业,着力培养科技创新型人才
 ④发展科学事业,提高国家的自主创新能力
 A. ①② B. ①③ C. ②④ D. ③④
11. 中央经济工作会议要求,2022年经济工作要稳字当头、稳中求进,各地区各部门要担负起稳定宏观经济责任,各方面要积极推出有利于经济稳定的政策,政策发力适当靠前。回顾改革开放以来我国经济发展历程,从“又快又好”到“又好又快”“好字优先”,再到“稳字当头、稳中求进”,这体现了 ()

- ①真理和谬误是相互对立的,又是相互统一的
 ②认识具有反复性和无限性,要在实践中不断发展
 ③真理是无条件的、具体的
 ④实践是认识发展的动力
 A. ①② B. ①③ C. ②④ D. ③④
12. 2021年8月16日,中国外长王毅应约同美国国务卿布林肯通电话。王毅表示,正确的做法是在相互尊重基础上,共同寻找两个大国在这个星球上和平共处之道。历史必将证明,无论美方意欲何为,中美关系最终应该只寻求这样一种前途,也只有这样一条路可走。对此认识正确的是 ()
 ①要推动矛盾由斗争性向同一性转化
 ②矛盾双方有相互吸引、相互联结的属性和趋势
 ③矛盾的同一性不能脱离斗争性而存在
 ④中美关系的对立统一推动双方的共赢与发展
 A. ①③ B. ①④
 C. ②③ D. ②④
13. 2021年8月20日中宣部授予李桓英“时代楷模”称号,二十世纪五十年代初,她为了新中国的卫生健康事业,主动舍弃国外优厚条件,毅然回国投身到麻风病防治工作,长期奔波在偏远山区救治了数以万计的麻风病患者,为我国乃至世界麻风病防治工作作出了突出贡献。这给青年朋友的人生启迪有 ()
 ①自我价值与社会价值是完全统一的
 ②不懈拼搏奋斗,在奉献社会的实践中创造和实现价值
 ③实现人生价值需要科学素养引领
 ④明确人生使命,在个人与社会的统一中实现人生价值
 A. ①④ B. ①③ C. ②③ D. ②④
14. 现代气象预报作为一门年轻的科学,在近百年来取得了长足的进步,获得了人们的广泛信赖。然而,作为预测科学,气象预报受制于科学认识和技术手段等因素,不可能做到100%准确,预报的准确率也与公众日益增长的需求存在一定距离。但目前并没有任何一套物理模型能够精准地描述大气运动,只能近似地模拟……凡是近似,必有误差。这说明 ()
 ①真理具有相对性
 ②认识对象是变化的,认识必须先于认识对象而存在
 ③实践是积极能动的,有利联系都是通过实践建立的
 ④人的认识有待于进一步发展
 A. ①② B. ①④
 C. ②③ D. ③④
15. 在美国的疫情防控中,我们看到联邦政府与州政府持续发生冲突。通常情况下,主要是各州负责抗击疫情,而联邦政府只能就防疫防灾提供指导性建议,无权直接命令各州。但在特朗普政府宣布美国进入紧急状态之后,联邦政府就要担负起更多责任。一些州政府之所以指责联邦政府,是因为特朗普政府

出于多种原因反应迟钝,没有及时采取措施阻隔疫情扩散,联邦与州之间、各州之间的协调一度出现紊乱。加之一些州长是民主党人,州和联邦政府之间的撕扯还与党派斗争因素纠缠在一起,从而使得局面变得更加复杂起来。这表明在美国 ()

- ①联邦制的弊端显露无疑,联邦制最大的问题是国家机构始终处于低效运转之中
 - ②联邦与州之间的分权,在一定程度上造成了联邦政府与州政府之间相互扯皮和推诿
 - ③两党制能够有效地调节资产阶级内部的矛盾,防止出现个别集团或个别人物的独裁
 - ④两大政党之间的明争暗斗,对疫情防控中出现的政局紊乱起了推波助澜的作用
- A. ①② B. ①③ C. ②④ D. ③④

16. 2021年,我国的人民代表大会制度走过了67年的历程,从“豆选法”到城乡选举“同票同权”,从等额选举到差额选举,这一制度日益显示出强大的生命力和无比的优越性。我国的人民代表大会制度 ()

- ①以人民代表大会为基石保证了国家机关协调高效运转
 - ②是我国的政体,通过分权制衡使权力为民所用
 - ③动员全体人民以主人翁的姿态投身于社会主义建设
 - ④保障了全体人民直接行使管理国家和社会事务的权力
- A. ①④ B. ②③ C. ②④ D. ①③

二、非选择题:共52分。

17. 阅读材料,完成下列要求。(20分)

材料一 2021年5月25日,中国人民大学国家发展与战略研究院联合某短视频平台举办了“短视频、直播与县域经济发展”论坛。论坛指出我国县域经济发展面临的主要困难是城乡生产消费流通不畅,乡村的优质农产品进城困难;县域企业以中小规模为主,过去面对“沙漏型”供需关系,县域企业产品的销售,只能通过狭窄的中间商渠道,与消费者产生间接关联;年轻人不愿扎根家乡创业就业,青壮劳动力资本外流严重,乡村“空心化”严重。

以短视频和直播平台带动的“灵工”新就业形态,具有更多年轻、创新、融合的优势,短视频、直播打破了“店”与“厂”的物理边界,消费者通过短视频平台可以“走进”生产线,体验产品从构思设计、原材料供应、生产加工和包装销售的全流程。某短视频平台推出的“新农人计划”,从运营扶持、流量补贴、经营培训、变现指导等方面,全方位扶持三农内容创作者。短视频平台为内容与消费的对接,提供了顺畅的“界面”,促进了县域商品的流通、服务了县域品牌的打造。在此基础上,县域一二三产业融合发展程度提升,县域文旅产业、非遗文化产业等非农新业态面临新机遇。同时,新品牌、新业态带来的本地就业机会,也为扭转农村“空心化”,解决农村留守等问题提供了新思路。

材料二 乡村内含的农耕文明支撑了古代中国的繁盛,至今也是中国人引以

为傲的文化资源,“乡情”也成了普遍存在于中国人心中的一块情感的出发地和归属地。随着社会经济的高速发展,城市化进程及新农村建设的加快,农田和村庄流转变迁,新一代农村居民大量转入城镇居家置业……传统的乡村文化受到了冲击,乡村文化发展陷入身份烙印淡化,价值体系瓦解、秩序信仰弱化等窘境,亟待重焕生命力。国家提出全面推进乡村振兴的政策后,更多的农民工、大学生、复员退伍军人、退休人员满怀对家乡的眷恋,携带资金、技术和人力资源返乡、下乡创业发展或下乡居住,乡村振兴迎来了新的机遇。

(1)结合材料一,运用经济生活的相关知识,分析短视频平台助农的原因及对我国县域经济产生的积极影响。(12分)

(2)结合材料二并运用文化生活知识,说明如何重焕乡村文化的生命力。(8分)

18. 阅读材料,完成下列要求。(10分)

进企业、同劳动,拉家常、解难题,安徽省260名工会干部赴基层蹲点;提档升级的农贸市场、见缝插绿的“口袋公园”、“指尖上的留言板”,吉林省立足群众所需,让民生大小事有着落有回音;从盘活停车资源到规划建设新的停车场,从解决冬季背街小巷除雪问题到关注夏季露天烧烤问题,辽宁省努力实现“人找政策”变为“政策找人”……

2021年随着深入开展党史学习教育,“我为群众办实事”活动持续开展,各地用心用力办事,在解民忧、纾民困、暖民心上下了功夫,群众切实感受到了发展变化,幸福美好生活的故事在不断书写。

为人民谋幸福,犹如万钧重担。习近平总书记指出:“让老百姓过上好日子是我们一切工作的出发点和落脚点。”正是秉持这样的信念,我们党自成立以来,就是为中国人民谋幸福的党,就把为人民服务写在了党的旗帜上。时间写就了答案:人民对美好生活的向往,始终是我们的奋斗目标,让人民生活

幸福始终是“国之大者”。
结合材料,运用中国共产党的知识,分析说明中国共产党坚持让人民生活幸福是“国之大者”的原因。

19. 阅读材料,完成下列要求。(6分)

2021年10月15日,习近平主席同欧洲理事会主席米歇尔通电话。习近平在通话中指出,中欧历史文化、社会制度、发展阶段不同,有一些竞争、分歧、差异并不奇怪,应该通过对话谈判解决。中方始终有发展中欧关系的诚意,同时也会坚定维护自身主权、安全、发展利益。希望欧方坚持战略自主,明辨是非,同中方共同努力,推动中欧合作向前发展。米歇尔表示,近期国际形势的发展演变,使欧盟和成员国更加认识到增强战略自主的重要性。虽然欧中政治制度和发展模式不同,但双方需要就抗击新冠肺炎疫情、推动经济复苏、应对气候变化、维护地区和平稳定开展合作。持续发展欧中战略伙伴关系,符合双方人民共同利益。欧方愿同中方本着相互尊重的精神加强对话接触,有效妥善管控分歧。

结合材料,运用《国家和国际组织常识》的有关知识,简要说明我国为什么要发展中欧关系。

20. 阅读材料,完成下列要求。(16分)

材料一 八步沙林场地处河西走廊东端、腾格里沙漠南缘的甘肃省古浪县。昔日这里风沙肆虐,侵蚀周围村庄和农田,严重影响群众生产生活。

为保护家园,上世纪80年代初,郭朝明、贺发林、石满、罗元奎、程海、张润元6位村民,义无反顾挺进八步沙。以“六老汉”为代表的八步沙林场三代职工,矢志不渝、拼搏奉献,科学治沙、绿色发展,持之以恒推进治沙造林事业。第一代治沙人“一棵树、一把草,压住沙子防风掏”,第二代治沙人创新应用“网格状双眉式”沙障结构,实行造林管护网格化管理,第三代治沙人全面尝试“打草方格、细水滴灌、地膜覆盖”等新技术,八步沙林场始终坚持因地制宜、运用科学方法支撑绿色成长,传承与创新并重、环境与效益兼得,以愚公移山精神生动书写了从“沙逼人退”到“人进沙退”的绿色篇章。

材料二 一代人有一代人的历史使命与责任担当。当代青年是同新时代共同前进的一代,既拥有广阔的发展空间,也承载着伟大的时代使命。在这样一个好时代,青年更应该砥砺奋进,不负时代机遇,不负青春时光。

这是一个创造梦想、成就梦想的时代。“嫦娥”探月、“北斗”组网、“神舟”飞天、“天眼”巡空、“蛟龙”入海……这些大国重器的背后无不闪耀着青年的力量与智慧。新时代的舞台上处处刻印着青年奋斗的脚步,洋溢着青春火热的激情。无论在祖国的哪个角落、从事什么样的工作,把理想和抱负熔铸在脚踏实地的前进征程中,当青年理想与历史使命同频共振,奏响的就是这个时代的最强音。

(1)结合材料,运用价值判断与价值选择的知识,分析八步沙从“沙逼人退”到“人进沙退”的原因。(10分)

(2)某班拟以“在砥砺自我中构建时代精神版图”为主题组织交流会,若你在交流会上发言,请综合运用所学知识,列出发言稿提纲。(6分)

要求:①主题鲜明,观点正确,逻辑严谨;②使用思想政治学科术语;③严禁抄袭给定材料;④字数不少于150字。

2022 年高考密破考情卷(三)

思想政治

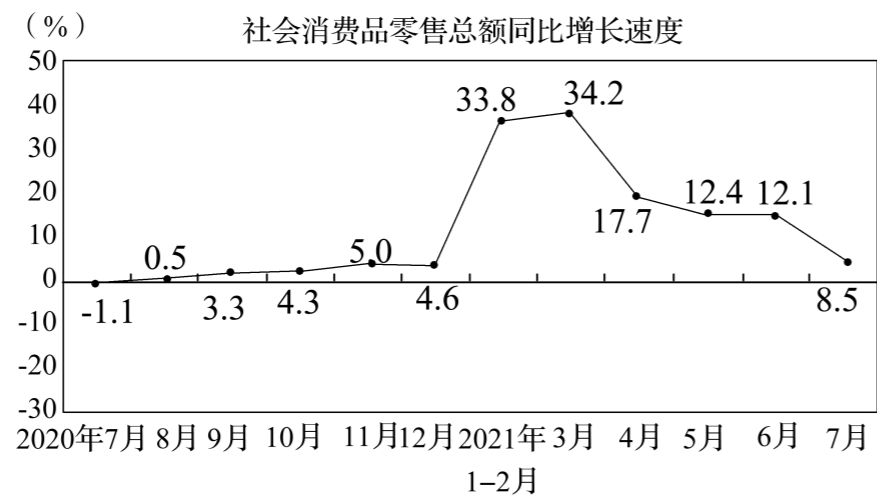
本试卷共 8 页,满分 100 分,考试用时 75 分钟。

注意事项:

1. 答题前,考生务必将自己的姓名、准考证号填写在答题卡上。
2. 回答选择题时选出每小题答案后,用铅笔把答题卡上对应题目的答案标号涂黑。如需改动,用橡皮擦干净后,再选涂其他答案标号。回答非选择题时,将答案写在答题卡上,写在本试卷上无效。
3. 考试结束后,将本试卷和答题卡一并交回。

一、选择题:本题共 16 小题,每小题 3 分,共 48 分。在每小题给出的四个选项中,只有一项是符合题目要求的。

1. 2020 年 7 月—2021 年 7 月我国社会消费品零售总额变化情况如图所示。



附:2021 年 7 月,城镇消费品零售额同比增长 8.4%;乡村消费品零售额同比增长 8.8%。

据此推断 ()

- ①居民消费恩格尔系数波动明显
 - ②乡村消费品零售额高于城镇
 - ③社会消费能力受疫情影响
 - ④我国消费市场潜力巨大
- A. ①② B. ①③ C. ②④ D. ③④

2. 2021 年 5 月 31 日,中共中央政治局召开会议,审议《关于优化生育政策促进人口长期均衡发展的决定》。会议指出,进一步优化生育政策,实施一对夫妻可以生育三个子女的政策及配套支持措施。“三孩生育政策”对国家经济影响 ()

- ①促进国内需求,促进经济高质量发展
 - ②优化人口结构,改善劳动力供给
 - ③提高基础设施使用效率,化解产能过剩
 - ④抑制经济下行趋势,防止未富先老
- A. ①② B. ①③ C. ③④ D. ②④

3. 为支持实体经济发展,促进综合融资成本稳中有降,中国人民银行决定于 2021 年 7 月 15 日下调金融机构存款准备金率 0.5 个百分点(不含已执行 5%存款准备金率的金融机构)。对上述政策产生的影响理解正确的是 ()

- ①为高质量发展和供给侧结构性改革营造适宜的货币金融环境
 - ②积极运用降准资金加大对小微企业的支持力度
 - ③增加货币供应量,提高居民收入,刺激消费
 - ④促进实体经济的发展,实施积极的财政政策
- A. ①② B. ①③ C. ②④ D. ③④

4. 为打造一流营商环境,推进反垄断工作,浙江省将发挥“浙江公平在线”作用,提升平台经济创新力竞争力。2021 年上半年,浙江省反垄断和防止资本无序扩张工作扎实推进,制定实施了加强监管促进平台经济规范健康发展意见,对“二选一”等涉嫌垄断行为开展风险监管。此举 ()

- ①旨在推动企业依法合规经营,树立良好信誉和企业形象
 - ②能够降低资本市场投资和交易风险,维护社会公共利益
 - ③更好发挥政府在资源配置中的决定性作用,规范市场秩序
 - ④有利于推动市场公平公正竞争,促进经济规范有序健康发展
- A. ①② B. ①④ C. ②③ D. ③④

5. 长期以来,一些农村存在“一言堂”问题,不仅容易导致决策失误,而且容易诱发腐败。近年来,福建 J 市探索推行“四会管村”村级民主自治新模式,构建支委会统领、村代会定事、村委会办事、监委会监事的村级组织责任体系,同时规范村权运行流程,构建起责权明晰、分权制衡的乡村治理新机制。“四会管村”制度的推行 ()

- A. 是村民参与民主管理的主要途径
- B. 创新了基层民主的实践途径
- C. 推进了基层社会的法治建设
- D. 保障了人民享有更多的民主权利

6. 2021 年是西藏和平解放 70 周年,得益于党和政府采取的建设“稳定社会”、打造“安康生活”、探索“发展路径”、提升“宗教修为”等各种政策,加之几代驻藏部队官兵、援藏干部等同西藏各族人民群众一道共同奋斗,西藏发生了翻天覆地的变化。西藏的发展变化说明 ()

- ①要铸牢中华民族共同体意识,提升民族凝聚力
 - ②要坚持用社会主义核心价值观引领西藏的宗教发展
 - ③我国坚持民族平等、民族团结、各民族共同繁荣
 - ④坚持民族区域自治制度是适合我国国情的必然选择
- A. ①② B. ①③ C. ②④ D. ③④

7. 世界卫生组织 2021 年 12 月 9 日公布的最新数据显示,全球累计新冠肺炎确诊病例达 267 184 623 例。截至 2021 年 3 月 30 日,中国正在向 80 个国家和 3 个国际组织提供疫苗援助,同时向 40 多个国家出口疫苗,同 10 多个国家开展疫苗的研发和生产合作。我国还响应联合国的号召,向各国维和人员捐赠疫苗,这一举措 ()

- ①展现了负责任大国的担当,维护人类的共同利益
- ②体现了摒弃政治立场分歧,维护人类根本利益的人道主义精神
- ③实施国际人道主义援助,构建人类命运共同体
- ④顺应时代主题的变化,开展睦邻友好合作

A. ①② B. ①③ C. ②④ D. ③④

8. 2021 年国庆节期间热映的爱国主义影片《长津湖》取材自抗美援朝战争中最惨烈的一场战役——长津湖战役。影片生动再现了长津湖战役中战士们浴血奋战的精神和视死如归的勇气,极大地点燃了国人的爱国情绪,同时也激励身处和平年代的我们继续砥砺前行,并传承伟大的爱国主义精神。新时代要传承爱国主义精神,是因为它 ()

- ①是中国人民对祖国最深厚的情感,能够团结亿万中国人民
- ②有利于为实现中华民族伟大复兴的中国梦提供精神动力
- ③作为维系中华民族的精神纽带,是中国精神的集中体现
- ④作为中华民族的共同精神基因,是时代精神的核心

A. ①② B. ①③ C. ②④ D. ③④

9. 中央经济工作会议指出,要坚持节约优先,实施全面节约战略。在生产领域,推进资源全面节约、集约、循环利用。在消费领域,增强全民节约意识,倡导简约适度,绿色低碳的生活方式。实施全面节约战略旨在 ()

- ①弘扬传统美德,提升社会道德水平
- ②遏制社会餐饮浪费,约束市场主体行为
- ③改造落后文化,筑牢理想信念之基
- ④倡导文明健康饮食,保障国家粮食安全

A. ①② B. ①④ C. ②③ D. ③④

国务院将每年的 5 月 30 日设立为“全国科技工作者日”。科学成就离不开精神支撑,科学精神作为科技工作者在长期科学实践中积累的宝贵精神财富,既彰显着科学家独特的精神气质,也是推动科技创新实现更多“从 0 到 1”关键核心技术重大突破的精神动力。据此完成 10、11 题。

10. 上述材料表明 ()

- ①社会实践是文化产生发展的基础 ②科学精神决定科学成就的取得
- ③优秀文化推动社会实践不断发展 ④科学技术推动着经济社会的发展

A. ①② B. ①③ C. ②④ D. ③④

11. 2021 年 10 月 16 日,神舟十三号载人飞船与空间站组合体成功实现自主快速交会对接。航天员翟志刚、王亚平、叶光富先后进入天和核心舱,中国空间站也迎来了第二个飞行乘组和首位女航天员。这佐证了 ()

- ①人类能够能动地认识和改造世界 ②按照规律办事是人人具备的基因
- ③实践是检验认识真理性的唯一标准 ④创造新联系是人类活动的根本目的

12. 传统刚性制造更适用于单一品种商品的大批量生产,如果只加工中小批量产品,就会出现成本过高等问题。柔性制造是一种根据订单需求可及时调整生产线的生产技术手段,和传统刚性制造相比,最大特点是灵活,更能快速适应外部环境变化。柔性制造是 ()

- ①矛盾普遍性的突出展现 ②质变基础上的最新量变
- ③对传统制造的辩证否定 ④代替传统制造的新事物

A. ①② B. ①④ C. ②③ D. ③④

13. 为了让学生体验劳动的辛苦和幸福,福建某校立足当地乡土资源优势,开发实施乡村田园课程,丰富学生的学习生活,让学生在实践探究中感悟生命成长,培养学科素养,激发家乡情怀。开展乡村田园课程旨在 ()

- ①树立劳动观念,磨炼学生意志品质 ②树立正确价值观,尊重劳动者
- ③启迪学生智慧,展现中华文化魅力 ④树立职业平等观,推动社会分工

A. ①② B. ①③ C. ②④ D. ③④

14. 漫画《画龙点睛图》讽刺了一些人不懂得 ()



- ①发挥人的意识的目的性和选择性 ②量变达到一定程度才能引起质变
- ③部分功能甚至对整体起决定作用 ④人民群众才是历史的真正创造者

A. ①② B. ①③ C. ②④ D. ③④

15. 由于美国各州新冠肺炎疫情形势不同,联邦政府与州政府之间围绕抗疫措施、医疗物资调配等问题,已爆发多次“口水仗”。在何时以何种方式重启本地经济的问题上,各州也要求保留“自主权”。由此折射出 ()

- ①美国各州具有相对独立性,联邦与州在地位上是平等的
- ②联邦政府与州政府在各自的权限范围内都享有最高权力
- ③联邦政府受到来自国会和法院的制衡,权力越来越弱化
- ④联邦政府与州之间相互扯皮、推诿,各州政府各自为政

A. ①② B. ①③ C. ②④ D. ③④

16. 2021 年 8 月 17 日至 20 日,十三届全国人大常委会第三十次会议初次审议了国务院提请的人口与计划生育法修正草案。为适应我国人口与经济社会发展新形势,修正草案立足优化生育政策、促进人口长期均衡发展,重点围绕实施三孩生育政策、取消社会抚养费等措施、配套实施积极生育支持措施进行了修改。这表明 ()

- ①全国人大与国务院之间存在监督和被监督关系

- ②人民代表大会制度坚持民主集中制的活动原则
- ③全国人大常委会坚持与时俱进,行使立法权
- ④全国人大常委会代表人民统一行使国家权力

A. ①② B. ①④ C. ②③ D. ③④

二、非选择题:共 52 分。

17. 阅读材料,完成下列要求。(20 分)

材料一 追求社会公平是社会主义的一个基本目标和核心价值,也是社会主义的魅力所在。收入分配公平是社会公平的基本内容和重要基础。2021 年上半年,我国居民人均可支配收入 17 642 元,同比名义增长 12.6%,扣除价格因素同比实际增长 12.0%。按常住地分,城镇居民人均可支配收入 24 125 元,同比名义增长 11.4%,实际增长 10.7%;农村居民人均可支配收入 9 248 元,同比名义增长 14.6%,实际增长 14.1%。城乡居民人均收入比值 2.61,比上年同期缩小 0.07。(来源于国家统计局)

材料二 S 市位于我国西部边远之地,经济社会发展水平相对落后。在全面建成小康社会进程中,S 市基于本地历史文化资源丰富的特点,提出了“以文化促发展”的核心思路。S 市根据当地多民族文化和谐共存、多样发展,西部文化历史悠久、特色鲜明等优势 and 特点,打造富有鲜明民族文化色彩和浓厚地域文化特色的旅游文化产业,实施“县乡民族风”工程,建设“塞上风情城”,在社区、校园、企业、乡村开展群众广泛参与的文化活动,推动 S 市经济社会发展水平迈上新台阶,城乡居民人均收入有了较大提高。

(1)结合材料一,运用生产与消费的关系,分析收入分配公平的经济价值。(12 分)

(2)结合材料二,运用文化与经济的关系的知识,分析在经济社会发展水平相对落后的地方坚持“以文化促发展”思路的合理性。(8 分)

18. 阅读材料,完成下列要求。(10 分)

1921—2021,风雨百年路,奋斗铸辉煌。站在“两个一百年”奋斗目标历史交汇的关键节点,在中国的大地上,党史学习教育的热潮正铺展开来。“一切向前走,都不能忘记走过的路,走得再远、走到再光辉的未来,也不能忘记走过的过去,不能忘记为什么出发。”适逢“十四五”开局之年,中国共产党人以习近平新时代中国特色社会主义思想为指引,重温百年奋斗的恢弘史诗,以信仰之光照亮前行之路,用如磐初心凝聚奋斗伟力,接续谱写新的历史篇章。

“中国革命历史是最好的营养剂”——在治国理政实践中,习近平坚持宽广深邃的大历史观,带领全党不断深化对共产党执政规律、社会主义建设规律、人类社会发展规律的认识,不断从历史中汲取智慧和力量。宣示了新时代共产党人不忘初心、牢记使命的坚定决心,展现了再接再厉把中国特色社会主义事业推向前进的奋进姿态,为深入推进党的建设新的伟大工程注入强劲动力。结合材料运用政治生活的知识,说明在全党开展党史学习教育对提高党的执政能力和水平的意义。

19. 阅读材料,完成下列要求。(6分)

2021年10月25日,国家主席习近平在中华人民共和国恢复联合国合法席位50周年纪念会议上的讲话中指出,这50年来,中国人民始终维护联合国权威和地位,践行多边主义,中国同联合国合作日益深化。中国忠实履行联合国安理会常任理事国职责和使命,维护联合国宪章宗旨和原则,维护联合国在国际事务中的核心作用。中国积极倡导以和平方式政治解决争端,派出5万多人次参加联合国维和行动,已经成为第二大联合国会费国、第二大维和摊款国。中国率先实现联合国千年发展目标,带头落实2030年可持续发展议程,对世界减贫贡献超过70%。中国始终遵循联合国宪章和《世界人权宣言》精神,坚持把人权普遍性同中国实际结合起来,走出了一条符合时代潮流、具有中国特色的人权发展道路,为中国人权进步和国际人权事业作出了重大贡献。

结合材料,运用国家和国际组织常识的有关知识,说明中国是如何做世界和平的建设者,全球发展的贡献者、国际秩序的维护者的。

据《人民日报》的相关报道改编)


材料二 2021年5月,某高中组织全校师生开展以“向戍边英雄学习、为中华复兴读书”为主题的爱国主义思想政治课,校长亲自授课,进一步坚定初心使命,凝聚爱国力量,激励学生为中华民族复兴而读书的热情。

(1)结合材料并运用人生价值观知识,说明戍边战士的英雄事迹给我们的启示。(10分)

(2)根据材料二,说明开展此次主题教育活动的目的和意义。(6分)

要求:①主题鲜明,观点正确,逻辑严谨;②使用思想政治学科术语;③严禁抄袭给定材料;④字数不少于150字。

20. 阅读材料,完成下列任务。(16分)



材料一 2021年2月,中央军委授予祁发宝“卫国戍边英雄团长”荣誉称号,追授陈红军“卫国戍边英雄”荣誉称号,给陈祥榕、肖思远、王焯冉追记一等功。守边英雄宁洒热血、不失寸土的坚决,赤胆忠诚、皆为祖国的坚守,点燃了中国人民的爱国热情。英雄烈士的壮举,祖国永远不会忘记,人民始终都会铭记。(根