

2022 年高考密破考情卷(一)

思想政治

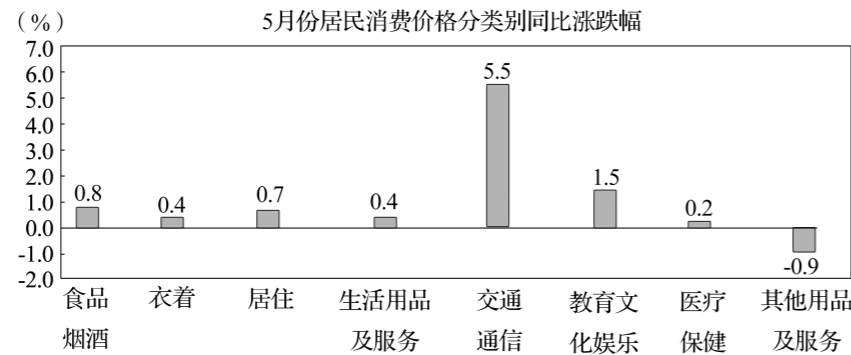
本试卷共 8 页,满分 100 分,考试用时 75 分钟。

注意事项:

- 答卷前,考生务必将自己的姓名、考生号、考场号、座位号填写在答题卡上。
- 回答选择题时,选出每小题答案后,用铅笔把答题卡上对应题目的答案标号涂黑。如需改动,用橡皮擦干净后,再选涂其他答案标号。回答非选择题时,将答案写在答题卡上,写在本试卷上无效。
- 考试结束后,将本试卷和答题卡一并交回。

一、选择题:本题共 15 小题,每小题 3 分,共 45 分。在每小题给出的四个选项中,只有一项是符合题目要求的。

- 2021 年 8 月 12 日,全国玉米均价为 2 841 元/吨,较上一日上涨了 11 元/吨,同比上涨 20.43%。假设该现象会持续,那么这一变化对玉米市场可能产生的影响有 ()
 - 消化库存,促进玉米供需平衡
 - 下游企业生产成本上升,需求减少
 - 玉米种植面积增加,供给增加
 - 玉米及其替代产品的进口压力减轻
 A. ①② B. ①④
 C. ②③ D. ③④
- 国家统计局网站显示,2021 年 5 月份,全国居民消费价格同比上涨 1.3%。其中,城市上涨 1.4%,农村上涨 1.1%,居民消费价格分类别同比涨跌幅情况如图。据此下列推测合理的是 ()



- 居民交通通信方面的消费占比最高
- 居民恩格尔系数呈上升趋势,生活水平下降
- 城乡居民生活水平差距在一定程度上呈现拉大态势
- 当前疫情得到控制、需求旺盛是出现该局面的可能性因素

- 2021 年 7 月,我国央行发布消息:针对大宗商品价格上涨对企业生产经营的影响,适时运用降准等货币政策工具,进一步加强金融对实体经济特别是中小微企业的支持,促进综合融资成本稳中有降。下列对该政策可能带来的影响,推测合理的是 ()

- 将在一定程度上减轻企业负担,推动实体经济的发展
 - 会降低居民储蓄存款的实际收益,减弱居民储蓄意愿
 - 有利于提高中小微企业的投资回报率,增强其竞争力
 - 有利于解决实体经济融资贵问题,为其提供资金支持
- A. ①② B. ①④ C. ②③ D. ③④

- 2021 年,河北省为加快构建新发展格局着力抓好科技创新体系建设,增强产业链供应链自主可控能力,围绕全省 12 个主导产业建链延链补链强链;着力保障改善民生,抓好 20 项民生工程、稳定扩大就业、提高社会保障水平、完善养老服务体系。这说明河北省 ()

- 坚持把扩大内需作为畅通国民经济循环的前提和保障
 - 深化供给侧结构性改革,增强供给体系的稳定性安全性
 - 以创新引领推动高质量发展,以扩大内需取代外部需求
 - 坚持扩大内需战略基点,增强经济发展内生动力
- A. ①③ B. ①④ C. ②③ D. ②④

- 根据中央和省、市关于推进新型城镇化建设的战略部署,依据《广东省国民经济和社会发展规划第十四个五年规划和 2035 年远景目标纲要》和省相关规划以及《梅州市国民经济和社会发展规划第十四个五年规划和 2035 年远景目标纲要》,市发改局组织编制了《梅州市新型城镇化规划(2021—2035 年)》。为进一步增强规划编制的科学性、可行性和公众参与性,市发改局将《梅州市新型城镇化规划(2021—2035 年)》(征求意见稿)摘要,面向社会各界通过电话、邮箱等形式公开征求意见建议。这表明 ()

- 该地政府增强决策透明度和公众参与度
 - 我国不断扩大公民权利,实现人民当家作主
 - 当地政府完善基层自治,保障人民群众的利益
 - 我国民主形式日益丰富,民主渠道逐步拓宽
- A. ①② B. ①④ C. ②③ D. ③④

- 2021 年 11 月 8 日至 11 日,中国共产党第十九届六中全会在北京召开,大会强调要推进党的自我革命,提高全党斗争本领和应对风险挑战的能力,永葆党的生机与活力。长期以来,党中央坚持严的主基调,制定修订关于干部选拔任用、考核、问责等一系列党内法规,健全正向激励机制,党员干部工作积极性得到充分激发。截至 2021 年 5 月,中央党内法规共 210 部,地方党内法规共 3 210 部。这些举措有利于 ()

- 完善我国法律体系,为从严治党提供法律保障
 - 加强党的作风建设,进一步提高党的政治地位
 - 净化党内政治生态,推动全面从严治党走向深入
 - 优化党内精神面貌,增强干部干事创业的责任心
- A. ①② B. ①③
 C. ②④ D. ③④

7. 河北省政协结合履职为基层群众办实事的内容具体而丰富,涉及深入调查研究为党委、政府科学决策提供依据、开展协商议政推动民生实事落地落实、加强提案督办推动惠民政策全面实施、进行民主监督确保国家政策惠及民生 4 个方面,包括加快县域经济高质量发展、净化网络环境、加强和改进中小学体育工作、推进民族地区城乡人居环境改善治理、公共卫生体系建设、高校毕业生就业、学前教育、矿山治理等 16 项具体内容。以下有关人民政协的说法正确的是 ()
- ①人民政协始终坚持中国共产党的领导
②政协委员积极发挥优势,管理经济事务
③人民政协是我国重要的国家决策机构
④政协围绕党和国家工作大局,助力现代化建设
- A. ①② B. ②③ C. ①④ D. ③④
8. 中国共产党和中国人民是从苦难中走过来的,深知和平的珍贵、发展的价值,但我们永远也不会丢掉不畏强暴、反抗强权的精神。对此,我们要 ()
- ①坚持以对话解决争端,以协商化解分歧,维护国家安全和利益
②始终坚持独立自主的和平外交政策,推动构建人类命运共同体
③积极参加联合国组织的各项活动,维护世界人民的根本利益
④在维护自身利益同时兼顾他国合理关切,和衷共济、和合共生
- A. ①② B. ①③ C. ②④ D. ③④
9. 2021 年 6 月 19 日,中共中央宣传部要求,发挥全国爱国主义教育示范基地作用,讲好中国故事,讲好中国共产党故事,讲好新时代中国特色社会主义故事,激励动员广大党员干部群众特别是青少年,为全面建设社会主义现代化国家、夺取新时代中国特色社会主义伟大胜利、实现中华民族伟大复兴而奋斗。这说明 ()
- ①新时代要把发扬爱国主义作为凝魂聚气、强基固本的基础工程
②讲好爱国故事能够为实现中国梦注入正能量
③弘扬爱国主义伟大精神需要有效的物质载体
④爱国主义教育能够为经济建设提供智力支持
- A. ①③ B. ①④ C. ②③ D. ②④
10. 2021 年 7 月 25 日,在第 44 届世界遗产大会上传来一个令人振奋的消息:“泉州:宋元中国的世界海洋商贸中心”项目申遗成功,正式获准列入世界文化遗产名录。泉州,被认为是海上丝绸之路的起点,是中国东南沿海的一处神奇而伟大之地。它的情调来自它谜一般的现代与传统相融的和谐。建筑、器乐、民俗、仪式、饮食无不自成一体地透露着此地的文化自信。泉州申遗成功有利于 ()
- ①展现中华文化源远流长、博大精深的独特魅力
②丰富中华优秀传统文化内涵,展示民族风土人情
③扩大中华文化的国际影响力,增强文化自信
④集中展示民族文化,开发挖掘独特文化产业
- A. ①② B. ①③ C. ②④ D. ③④
11. 国潮风起,文化大美。2021 年端午节,河南卫视的水下舞蹈《洛神水赋》,精彩再现了曹植名篇《洛神赋》,让不少观众直呼“爱了”。当下,越来越多的文艺产品根植于传统文化

- 的厚积薄发,通过创新为传统文化赋能。《洛神水赋》的成功 ()
- ①表明通过优秀传统文化熏陶可以增强人的精神力量
②体现了中华优秀传统文化创造性转化、创新性发展
③展示了优秀传统文化中的活力,增强了文化自信
④创新了传播和继承中华优秀传统文化的基本理念
- A. ①② B. ①④ C. ②③ D. ③④
12. 2021 年 5 月 15 日,我国火星探测器天问一号着陆巡视器成功着陆于火星预选着陆区,“祝融号”火星车经调试后开始工作。6 月 11 日,国家航天局公布了“祝融号”拍摄的着陆点全景、火星地形地貌、“中国印迹”和“着巡合影”等影像图。据此分析,下列说法正确的是 ()
- ①“祝融号”能够对火星世界作出能动的反映
②火星探测成功佐证了思维和存在的同一性
③先进科技手段改变了意识活动反映机制
④意识活动具有自觉选择性和主动创造性
- A. ①③ B. ①④ C. ②③ D. ②④
13. 东京奥运会上苏炳添以 9.83 秒刷新亚洲纪录。回顾苏炳添的运动生涯,他曾经历过漫长的瓶颈期,甚至在 2013 年改变起跑脚,重新从零开始培养跑步习惯。经过常年刻苦训练,苏炳添终于在起跑、冲刺、加速等各个方面调整到了最佳状态,最终在奥运会上创造了历史。苏炳添能够成功是因为 ()
- ①正视发展状态的前进性与曲折性,勇敢地克服前进路上的困难
②遵循质量互变规律,重视量的积累,同时抓住时机实现事业的飞跃
③掌握系统优化的方法,在起跑、冲刺、加速等方面实现了最佳状态
④重视关键部分的作用,通过适时改变跑步习惯促成事业的成功
- A. ①② B. ①④ C. ②③ D. ③④
14. 对于大多数博物馆来说,其供给和服务还远不能达到社会需求,千篇一律、人满为患,影响观展体验、精神享受;有些博物馆没有坚守博物馆公共文化服务职能,出现过度商业化、泛娱乐化倾向;博物馆专业化的管理者和技术人才短缺成为影响博物馆事业发展的关键。解决这一问题需要 ()
- ①打造自身特色,因为矛盾的特殊性寓于普遍性之中
②将满足群众的意愿作为我们一切工作的出发点和落脚点
③善于把握矛盾的主要方面,坚持社会效益为先
④抓主要矛盾,高度重视高端复合型人才的培养
- A. ①② B. ①③ C. ②④ D. ③④
15. 王书茂,作为为国护海的模范,先后参加多项国家重大涉海工作,参与南沙岛礁建设,培养南海维权民间力量。在南海维权斗争中冲锋在前,不怕牺牲、寸步不让,坚决捍卫我国领海主权和海洋权益。荣获“全国劳动模范”“改革先锋”等称号。他的事迹告诉我们 ()
- ①是在价值选择基础上作出的正确判断
②把人民群众的利益作为最高价值标准

- ③人的价值在于得到社会的认可和满足
④实现人生价值需要充分发挥主观能动性

A. ①② B. ①③ C. ②④ D. ③④

二、非选择题:本题共 5 小题,共 55 分。

16. 阅读材料,完成下列要求。(15 分)

材料一 2021 年一季度我国就业形势

城镇新增就业	297 万人,同比增加 68 万人,完成全年目标任务的 27%
城镇调查失业率(3 月份)	5.3%,环比下降 0.2 个百分点,同比下降 0.6 个百分点,低于 5.5% 左右的控制目标
市场用工需求	招聘需求人数同比增加 26%,招聘岗位数量继续大于求职人数

注:2021 年一季度,我国疫情防控良好态势继续得到巩固,国内生产总值 249 310 亿元,同比增长 18.3%,经济稳定恢复。

材料二 2021 年 3 月 11 日,十三届全国人大四次会议表决通过了关于国民经济和社会发展第十四个五年规划和 2035 年远景目标纲要的决议。决议提出,加快构建以国内大循环为主体、国内国际双循环相互促进的新发展格局。构建新发展格局要求以国内大循环为主体,贯通生产、分配、流通、消费等各个环节,这就意味着要把扩大内需作为战略基点。就业状况如何,特别是中低收入人群的就业状况如何,决定着一个国家的消费潜力。就业是社会的连接点,既连着百姓的饭碗,也连着经济社会发展。就业好,内需就足,就能够形成需求牵引供给、供给创造需求的更高水平动态平衡。

(1)解读材料一包含的经济信息。(6 分)

(2)结合材料二,并运用经济生活知识,分析解决好就业问题对畅通国内大循环的意义。(9 分)

17. 阅读材料,回答问题。(12 分)

2021 年 2 月,习近平总书记考察贵州时作出重要指示,要“在乡村振兴上开新局”,做好巩固拓展脱贫攻坚成果同乡村振兴有效衔接。

良法是善治的前提,美丽乡村的背后离不开立法的引领。在 2021 年 4 月全国人大常委会通过了乡村振兴促进法后,贵州省人大对该法进行全面有效的贯彻和实施,人大代表进村入户广为宣传,村民纷纷感慨:“共产党太好了!不光免除了‘皇粮国税’,还专门制定了法律促进我们增收。”乡村振兴促进法切实促进了农业升级、农村进步和农民发展。

近年来,贵州省初步构建了人大对政府债务举借、使用、偿还、监督等构成的全链条审查监督体系,要求政府做到举债适度、风险可控,而人大依法监督、有效监督,双方同向而行、双向发力,共同促进乡村振兴。此外,贵州省有不少人大代表开设扶贫车间,带动就业,增加村民收入,将履职融入乡村振兴主战场,做好人大代表的“五大角色”:作为宣传员讲清乡村振兴政策、作为监督员推动乡村振兴实施、作为联络员畅通乡村振兴渠道、作为引领员带动乡村振兴发展、作为战斗员投身乡村振兴行动。结合材料,运用所学政治生活知识,说明贵州省人大能够在乡村振兴上开新局的原因。

18. 阅读材料,完成下列要求。(12分)

中国共产党从成立之日起,既是中国先进文化的积极引领者和践行者,又是中华优秀传统文化的忠实传承者和弘扬者。在百年奋斗中,中国共产党继承了中华优秀传统文化中“革命”和“改革”等创新思想,以世界眼光把马克思主义与中国具体实践相结合,从而使中国人民有了“全新的选择”,也使得中国文化通过吸纳世界文明有了翻天覆地的变化。中国以自己的文化创造创新——革命的红色文化、新民主主义文化、社会主义文化——提炼至今日之“中国特色社会主义文化”这一新型文化样式,为忠实传承和弘扬中华优秀传统文化作出了非凡的贡献。

结合材料,运用“辩证否定的特征”有关知识,分析中国共产党是如何对待传统文化的。

19. 阅读材料,完成下列要求。(10分)

上海是中国共产党诞生地,是中国共产党人的精神家园,是中国革命的原点。穿越百年时空,这里依然闪耀着指引未来的光芒。在中国共产党成立一百周年之际,上海市大力弘扬红色文化,推动红色基因代代传承,助力新时代社会主义现代化建设。

中共一大会址纪念馆、二大会址纪念馆和四大纪念馆推出了“云体验”系列直播《博物·在看》,开设了《红色筑梦·四史现场讲》系列视频微党课,专门拍摄MTV,不断丰富红色数字文化资源,提供红色文化的在线节目,再现历史情景,增强观众体验。纪念馆入驻热门网络平台,开办“力量之源·红色100”专栏,通过“微剧情 小故事 短视频”等多样化的传播形式,让人们了解革命历史,认识到红色政权来之不易、新中国来之不易、中国特色社会主义来之不易。上海市开展迎接中国共产党成立一百周年红色旅游体验活动,打造“听得进、记得住、玩得来”的上海红色文旅产品,通过建立“红色基因+声音IP+互联网+旅游”的价值链,全面激活遍布城市的红色资源。

结合材料,运用文化生活知识,说明上海市是如何弘扬红色文化的。

20. 阅读材料,完成下列要求。(6分)

网络是一把双刃剑。在加速信息交流、促进知识创新、推动经济发展、方便群众生活的同时,其负面影响也逐渐显现,一些低俗内容的传播、防不胜防的网络诈骗事件、网络谣言频发、滥用个人信息、恶意炒作等不文明现象,危害着未成年人的健康成长。

2021年9月,中共中央办公厅、国务院办公厅印发了《关于加强网络文明建设的意见》。我国全面推进文明办网、文明用网、文明上网、文明兴网,打造清朗的网络空间。

请以“文明上网·共享清朗网络空间”为主题,综合运用政治学科知识,为红旗中学拟定一份高中生网络文明行动倡议书。

要求:①阐明倡议的目的和具体内容;②符合实际,用语得体;③150字左右;④不得透露个人信息。

版权所有

2022 年高考密破考情卷(二)

思想政治

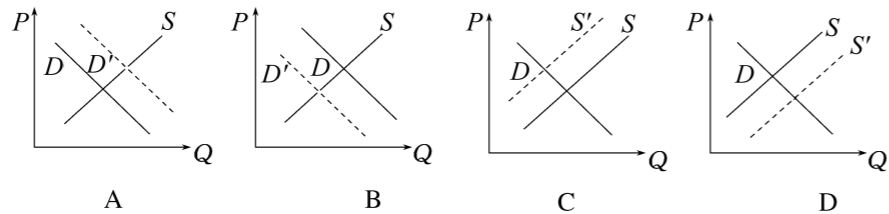
本试卷共 8 页,满分 100 分,考试用时 75 分钟。

注意事项:

1. 答卷前,考生务必将自己的姓名、考生号、考场号、座位号填写在答题卡上。
2. 回答选择题时,选出每小题答案后,用铅笔把答题卡上对应题目的答案标号涂黑。如需改动,用橡皮擦干净后,再选涂其他答案标号。回答非选择题时,将答案写在答题卡上,写在本试卷上无效。
3. 考试结束后,将本试卷和答题卡一并交回。

一、选择题:本题共 15 小题,每小题 3 分,共 45 分。在每小题给出的四个选项中,只有一项是符合题目要求的。

1. 2021 年,中国邮政官宣提速,在公路、高铁、航空方面“三管齐下”,让邮件“次日达”成为可能。专家表示,中国邮政这一举措势必掀起整个快递行业一阵“内卷”(即同行间竞相付出更多努力以争夺有限资源),下列可以正确表示这一“内卷”的图示是(S 、 S' 分别表示其他快递行业变化前后的供给曲线, D 、 D' 分别表示其他快递行业变化前后的需求曲线, P 表示其他快递行业的价格)



2. 2021 年政府工作报告提出扎实做好碳达峰、碳中和各项工作。2021 年 4 月 29 日,河北省政府发布《关于建立健全绿色低碳循环发展经济体系的实施意见》。实施意见提出,到 2035 年,绿色发展内生动力显著增强,绿色产业规模迈上新台阶,重点行业、重点产品能源资源利用效率达到国际先进水平,广泛形成绿色生产生活方式,碳排放达峰后稳中有降,生态环境根本好转,基本建成天蓝地绿水秀的美丽河北。做好碳达峰、碳中和工作需要 ()

- ①发挥有为政府作用,研发推广环保技术
 - ②扩大环保节能企业所得税优惠目录范围
 - ③解决发展不充分的问题,满足人民需求
 - ④优化能源结构,推动煤炭清洁高效利用
- A. ①③ B. ①④ C. ②③ D. ②④

3. 2021 年 3 月 24 日,中国人民银行货币政策委员会召开的会议指出,2021 年稳健的货币政策要灵活精准、合理适度,把握好政策时度效,保持流动性合理充裕,保持货币供应量和社会融资规模增速同名义经济增速基本匹配。延续普惠小微企业贷款延期还本付息政策和信用贷款支持计划,引导金融机构加大对科技创新、小微企业和绿色发展等领域的支持。这说明我国 ()

- ①提高银行资本充足率,防范系统性金融风险
 - ②优化金融服务供给,支持市场主体增强活力
 - ③提高金融政策的有效性,促进经济平稳运行
 - ④创新金融政策工具,增加企业直接融资比重
- A. ①② B. ①④ C. ②③ D. ③④

4. 党的十八大提出实施创新驱动发展战略,党的十九大提出创新是引领发展的第一动力,党的十九届五中全会提出加快建设科技强国。2021 年 5 月 28 日召开的中国科学院第 20 次院士大会、中国工程院第 15 次院士大会、中国科协第 10 次全国代表大会上习近平总书记再次强调,立足新发展阶段、贯彻新发展理念、构建新发展格局、推动高质量发展,深入实施科教兴国战略、人才强国战略、创新驱动发展战略,完善国家创新体系,加快建设科技强国,实现高水平科技自立自强。实现科技自立自强 ()

- ①需要控制科技资本市场风险,保证科技企业投资回报率
 - ②是开启全面建设社会主义现代化国家新征程的必然要求
 - ③能够解决“卡脖子”的难题,防范各种可能的外部风险
 - ④必须发挥政府主体作用,推动完善科技创新体制和机制
- A. ①③ B. ①④ C. ②③ D. ②④

5. 近年来,河北省在全省范围内部署开展村级议事协商示范点创建活动,要求各地结合实际,每个县(市、区)确定 2 个示范点。拓展议事协商形式,充分发扬民主,探索建立会议讨论协商、书面征询协商、走访约谈协商、民主恳谈协商、民主评议协商、决策听证协商等灵活多样的议事协商模式,促进党组织领导的村级自治组织规范运行。下列对材料理解正确的是 ()

- ①发展基层协商民主能够提高乡村治理水平
 - ②民情恳谈等协商活动有利于维护村民利益
 - ③通过民主评议会可以规范村民的行为方式
 - ④决策听证会的形式能推动村委会依法行政
- A. ①② B. ①④ C. ②③ D. ③④

6. “在全面小康路上,一个也不能掉队。”2021 年 7 月 1 日,在庆祝中国共产党成立 100 周年大会上,习近平总书记代表党和人民庄严宣告,经过全党全国各族人民持续奋斗,我们实现了第一个百年奋斗目标,在中华大地上全面建成了小康社会,历史性地解决了绝对贫困问题。材料表明 ()

- ①中国共产党领导是中国特色社会主义制度的最大优势
 - ②中国特色社会主义制度是我国生存和发展的政治基石
 - ③带领人民创造美好生活是我们党始终不渝的奋斗目标
 - ④在新时代中国人民享有广泛而真实的政治权利和自由
- A. ①③ B. ①④ C. ②③ D. ②④

准考证号
姓名
考场
考点

7. 2021年6月19日至22日,全国人大常委会执法检查组就贯彻执行《中华人民共和国畜牧法》情况进行检查。深入青海省西宁市、海北藏族自治州等地开展实地检查工作,全面了解贯彻实施畜牧法情况,并听取省政府及相关部门工作汇报。这表明 ()
- ①司法监督是权力机关的重要职能
②全国人大常委会是我国的法律监督机关
③全国人大常委会依法行使监督权
④人民代表大会制度坚持民主集中制原则
- A. ①② B. ①④ C. ②③ D. ③④
8. 当一些国家对疫苗或疫苗生产原材料实施出口管制之时,中国一直在尽己所能向难以获得疫苗的发展中国家施以援手。新冠肺炎疫情爆发后,中非双方深入开展抗疫合作,中国派驻非洲的46支医疗队全力投入当地抗疫行动,派出抗疫医疗专家组,捐赠口罩等医疗防护物资,援建非洲疾控中心总部大楼。由此可见我国 ()
- ①用自身的实际行动诠释人类命运共同体的真谛
②致力于构建在和平与发展基础上的国际新秩序
③践行“正和博弈”的外交思维,实现互利共赢
④把维护中非共同利益作为对外活动的出发点和落脚点
- A. ①② B. ①③ C. ②④ D. ③④
9. 革命博物馆、党史馆、烈士陵园等是党和国家的红色基因库。某地通过改善基础设施,开展实景演出,充分利用好红色资源,带火了红色旅游、推动了革命文物的保护和革命文化的传承。这表明 ()
- A. 红色革命文化是推动经济发展的重要力量
B. 对革命文物保护性利用创新了文化的内涵
C. 创造性转化活动使革命文物有了自身价值
D. 红色革命文化是中华民族精神的集中体现
10. 2021年河南省春晚舞蹈节目《唐宫夜宴》,让汉服这一传统服饰再次深入人心并掀起一波“汉服热”。汉服圆袖方领,表示不以规矩,不能成方圆,做人做事要合乎规矩;宽博飘逸、极具线条美的汉服设计,展现了泰然自若和优雅超脱精神特质。汉服以其深厚的文化意蕴使得汉服市场保持增长态势。这说明 ()
- ①汉服文化因兼收并蓄而具有穿越时空的影响力
②汉服蕴含着中华民族的思想观念和价值追求
③汉服文化契合了现代人的审美观念和精神需要
④在世代传承中,汉服文化具体内涵保持稳定性
- A. ①② B. ①④ C. ②③ D. ③④
11. 为庆祝中国共产党成立100周年,文艺界涌现出《革命者》《1921》《守岛人》等一批优秀电影作品。它们植根于历史与现实,注重美学创新,同时重视传播效果,通过青春化表达等手段,让影片赢得了市场的认可与观众的口碑。建党百年主题电影

- 的成功反映出 ()
- ①优秀文化有超越时空的艺术价值
②立足实践是文化创新的根本动力
③文化形式的创新更能满足人们的多样化需求
④中华优秀传统文化具有历久弥新的艺术魅力
- A. ①② B. ①③ C. ②④ D. ③④
12. 早在170多年前马克思、恩格斯就曾明确提出,人与自然是人类在长期社会生产实践过程中形成的整体性存在,然而自近代工业革命以来,人类在思想和实践中忽视人与自然同一性关系。新冠肺炎疫情的蔓延,再次提醒我们要深刻理解“人与自然是生命共同体,人与自然是一种共生关系,对自然的伤害最终会伤及人类自身”的生态文明理念。这一认识的变化表明 ()
- ①人类对生态文明理念的认识来源于实践
②正确的认识是在反思和学习中不断发展的
③认识具有相对性和唯一性,人们很难达到正确认识
④只有在实践中才能认识和发现真理,检验和发展真理
- A. ①② B. ②③ C. ①④ D. ③④
13. 对于学校封闭式管理,人们有不同的看法。赞成者认为:社会是纷繁复杂的,不良诱惑无孔不入,封闭式管理营造良好的育人环境,促进学生健康成长。反对者认为:封闭式的管理不让孩子跟外界接触,人为割裂学校与社会的联系,势必阻碍学生的社会化进程。据此分析,下列评价正确的是 ()
- ①赞成者合理之处:正确把握了联系的条件性、趋利避害
②赞成者合理之处:人们能够超越条件制约,建立有利的联系
③反对者合理之处:把握了联系的普遍性,反对孤立地看问题
④反对者合理之处:尊重自在事物的联系,重视人和社会关系
- A. ①② B. ①③ C. ②④ D. ③④
14. 漫画给我们的哲学启示是 ()
- ①要发挥主观能动性,找到应对问题的办法
②要从个人实际情况出发,切忌主观随意性
③要承认矛盾的特殊性,坚持具体问题具体分析
④做决定要坚持共性与个性、具体的历史的统一
- A. ①② B. ①④ C. ②③ D. ③④
15. 针对人民群众看病难、看病贵等社会民生问题,2021年5月24日,国务院办公厅印发了《深化医药卫生体制改革2021年重点工作任务》。文件提出了开展深化医改工作的重大政策,推广三明市医改经验;促进优质医疗资源均衡布局;加强公共卫生体系建设;统筹推进相关重点改革。这说明 ()
- ①与社会存在同步变化的社会意识才具有正确性
②做好医改工作要坚持人民群众的价值主体地位



- ③医改政策具有相对独立性,制约民生事业发展
 ④社会存在发展的需要是我国制定政策的根本动因
 A. ①② B. ①③ C. ②④ D. ③④

二、非选择题:本题共 5 小题,共 55 分。

16. 阅读材料,完成下列要求。(15 分)

材料一 2021 年 1—5 月,全国国有及国有控股企业经济运行情况

营业总收入	利润总额	缴纳税费	资产负债率(5 月末)
282 164.4 亿元	17 939.3 亿元	21 908.1 亿元	64.3%
同比增长 30.5%	同比增长 1.7 倍	同比增长 24.4%	同比下降 0.2%

注:十三五期间,我国国企改革全面发力、破局闯关,不断向纵深推进,取得历史性突破和实质性进展。

材料二 J 公司是中国铜工业领域一家大型国有控股企业。近年来,J 公司大力实施智能制造升级,推动工业互联网、5G、大数据等先进技术在下属矿山、工厂融合应用。仓储转运全流程实现无人化、智能化管控,冶炼环节关键设备的数字化率、生产数据自动采集率达到 90% 以上。J 公司瞄准国际铜业高端市场,积极布局产业链、供应链和价值链,开发的“双面光锂电池铜箔”“载体屏蔽铜箔”“高频电路板铜箔”……一系列高精尖产品,打破了国外企业长期的市场垄断局面,为国家产业链供应链自主可控贡献了力量。J 公司实现了从引进技术到自强自立的重大转变,自主研发的低品位露天铜矿综合开采技术、湿法冶金和硫化提铜技术已处于世界先进水平,闪速炉作业率、铜冶炼综合能耗、铜冶炼综合回收率等 10 余项最能代表铜冶炼企业技术水平和技术经济指标达到世界顶尖水平,扩大了公司产品在国际市场的占有率。该公司依靠科技创新成长为中国铜工业的璀璨明珠和世界铜工业版图中的重要一极。

(1) 概括材料一所包含经济信息。(6 分)

(2) 结合材料二并运用经济生活知识,分析科技创新对 J 公司发展的重要作用。(9 分)

17. 阅读材料,完成下列要求。(12 分)

为贯彻落实党中央、国务院关于深入打好污染防治攻坚战决策部署,切实改善生态环境质量,保障人民群众环境权益,2021 年 1 月 6 日,生态环境部发布《关于优化生态环境保护执法方式提高执法效能的指导意见》。

指导意见明确执法职责,要求切实落实行政执法责任,创新执法机构自身工作制度,完善“双随机、一公开”监管制度,优化执法方式,高效统筹行政执法资源,提高对违法问题的发现率。指导意见明确完善执法机制,着力提升行政执法效能,充分发挥广大人民群众力量,帮助执法部门发现和查处违法问题。指导意见要求规范执法工作,推行行政执法公示制度、落实执法全过程记录制度、规范行政处罚自由裁量权。

结合材料和政治生活知识,说明生态环保部门应如何推进生态环境保护。

18. 阅读材料,完成下列要求。(12 分)

山西省右玉县,地处毛乌素沙漠的天然风口地带,曾是一片风沙成患、山川贫瘠的不毛之地。新中国成立后,当地大力植树造林,创造了人类生态史上的奇迹,铸就了弥足珍贵的“右玉精神”。

“右玉精神”是“迎难而上、艰苦奋斗”的生动实践。县委和县政府坚持

“换届不换方向,换人不换思想”,以“一张蓝图干到底”的定力,将“不毛之地”变成了“塞上绿洲”。“右玉精神”是“科学决策,锲而不舍”的鲜活阐释。右玉县根据不同时期的实际情况及造林成果,及时科学地调整造林思路,充分尊重自然生态规律,有效地提高了造林质量。“右玉精神”是“功成不必在我”的奋斗传奇。“功成不必在我”的境界,让右玉县党员干部们能够“一棒接一棒”,勠力同心,书写化荒漠为绿洲的传奇故事。

习近平总书记在山西考察时指出,要牢固树立绿水青山就是金山银山的理念,发扬“右玉精神”,统筹推进山水林田湖草系统治理,扎实实施黄河流域生态保护和高质量发展国家战略。

要践行党的宗旨,坚持以人民为中心,让生态文明建设成果更多更好地惠及人民群众;要树立正确政绩观,确保生态文明建设的稳定性和连续性,在全社会牢固树立生态文明理念,增强全面节约意识、环保意识、生态意识,培养生态道德和行为习惯。

结合材料,运用唯物论的相关知识分析“右玉精神”蕴含的哲学思想。

19. 阅读材料,回答问题。(10分)

《山海情》作为国家广电总局庆祝中国共产党成立100周年电视剧展播的重要剧目,播出后受到各年龄段观众的一致好评。该剧讲述了上世纪90年代以来,宁夏西海固人民在党和国家扶贫政策的引导下,福建和宁夏两地人民比山高、比海深的情谊,描绘了一幅雄厚壮阔的脱贫故事画卷。

有人说,电视剧《山海情》之所以能取得如此的成功,是因为它赋予了人们希望,并且,这种希望不是廉价的希望,而是基于真实生活的一种希望。该剧有浪漫主义的情怀和表现,但它的底色和基调却是现实主义,它真实地展现了时代发展过程中的人事变迁,又关切了当前现实社会中的现代人,建构起了扶贫题材电视剧的美学新范式。

其实,电影也好,电视剧也罢,艺术作品都应承认缺陷的存在。承认缺陷的存在,不避讳真实的社会矛盾,才能引发广泛共鸣;允许缺陷的存在,得以摆脱“扶贫英雄”式塑造方式,挖掘每个不完美角色内心深处的情感,才能获得社会各个圈层的共情;展示缺陷的存在,挣脱“宣传片”式浮于表面的表达,才能作出深刻的思考与认识。因为凡是现实性,往往都有局限性,也正因为

局限性,才彰显了希望的美好和奋斗的价值。

电视剧《山海情》建构起了扶贫题材电视剧的美学新范式,结合材料并运用文化生活知识说明其成功的原因。

20. 阅读材料,完成下列要求。(6分)

党的十九届六中全会指出,全党全军全国各族人民要更加紧密地团结在以习近平同志为核心的党中央周围,全面贯彻习近平新时代中国特色社会主义思想,大力弘扬伟大建党精神,勿忘昨天的苦难辉煌,无愧今天的使命担当,不负明天的伟大梦想,以史为鉴、开创未来,埋头苦干、勇毅前行,为实现第二个百年奋斗目标、实现中华民族伟大复兴的中国梦而不懈奋斗。我们坚信,在过去一百年赢得了伟大胜利和荣光的中国共产党和中国人民,必将在新时代新征程上赢得更加伟大的胜利和荣光!

A中学高三(3)班在学习党的十九届六中全会精神中决定举办一次以“传承建党精神,书写时代华章”为主题的学习教育活动,请你帮助他们做一个活动计划。

要求:①结合学科知识,说明开展此次活动的目的和意义;②说明活动的具体内容并设计有特色的活动形式;③150字左右;④不得透漏任何个人信息。

2022 年高考密破考情卷(三)

思想政治

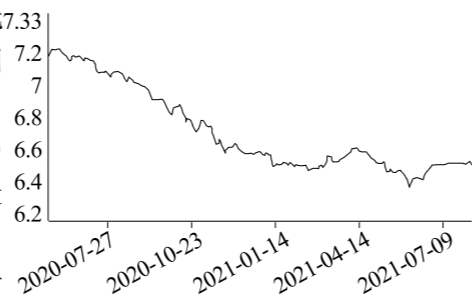
本试卷共 8 页,满分 100 分,考试用时 75 分钟。

注意事项:

- 答卷前,考生务必将自己的姓名、考生号、考场号、座位号填写在答题卡上。
- 回答选择题时,选出每小题答案后,用铅笔把答题卡上对应题目的答案标号涂黑。如需改动,用橡皮擦干净后,再选涂其他答案标号。回答非选择题时,将答案写在答题卡上,写在本试卷上无效。
- 考试结束后,将本试卷和答题卡一并交回。

一、选择题:本题共 15 小题,每小题 3 分,共 45 分。在每小题给出的四个选项中,只有一项是符合题目要求的。

1. 2020 年 7 月至 2021 年 7 月,人民币对美元 7.33 的汇率波动如图所示。若不考虑其他因素,这一变化对我国可能产生的影响有



- ①增强我国外汇储备购买力,加快我国“走出去”步伐
 - ②降低我国居民出境旅游的成本,提升居民消费水平
 - ③提高我国出口商品的价格优势,增加出口企业效益
 - ④增强我国偿还债务能力,进一步提升我国国际地位
- A. ①② B. ①③ C. ②④ D. ③④

2. 2021 年 7 月 21 日,河北省保定市遭特大暴雨袭击,灾情发生后,河北省高阳县 H 公司在第一时间分别向涞源、涞水、易县三地各捐款 100 万元,支援灾区抢险救灾,渡过难关。H 公司董事长说:“这次洪涝灾情重,给群众造成的损失大,一方有难八方支援,社会各界有义务和责任伸出援助之手,做到有力的出力、有智的出智、有钱的出钱,特别是企业创造了财富就要回报社会。”一件件良心之举践行了习近平总书记所提倡的企业家精神。这启示我们

- ①企业作为经济组织,要兼顾社会效益
 - ②经济实力强的企业,才能承担社会责任
 - ③良好的企业信誉和形象是企业无形的资产
 - ④制定正确经营战略可以使企业立于不败之地
- A. ①② B. ①③ C. ②④ D. ③④

3. 培育完善的内需体系,必须改革分配制度,促进居民收入可持续增长。企业要运用 5G、物联网等信息技术,加快实现数字化、智能化改造,满足个性化、定制化消费需求;在流通环节,要畅通网络“大动脉”,打通城乡流通“微循环”。这说明扩大居民消费需要

- ①加强需求侧管理,增强居民消费能力
 - ②推进供给侧结构性改革,提高供给体系适配性
 - ③培育发展要素市场,建设现代市场体系
 - ④以科技促进企业转型,以优质供给牵引需求
- A. ①② B. ①③ C. ②④ D. ③④

4. 2021 年 10 月 8 日,国家市场监管总局对某平台处以其 2020 年境内销售收入 3% 的罚款,共计 34.42 亿元,处罚原因为该平台实施“二选一”垄断(即通过多种方式促使商家与其签订独家合作协议,并对未签署独家协议的商家收取更高抽成)。国家市场监管总局对该平台进行处罚,是因为“二选一”垄断可能导致

- ①平台商家负担加重→放松卫生管理以减轻负担→引发食品安全等问题→影响社会稳定
 - ②增加商家制度性交易成本→偷工减料以降低成本→将成本转嫁消费者→降低消费体验
 - ③限制市场竞争→提高市场准入门槛→削弱平台经济发展活力→阻碍平台经济健康发展
 - ④违背市场竞争规则→妨碍市场要素流动→破坏公平公正市场秩序→营商环境恶化
- A. ①② B. ①④ C. ②③ D. ③④

5. 作为“七一勋章”获得者,林丹探索和创新社区服务的方法得到民政部肯定并向全国推广。她变“一言堂”为居民的“群言堂”,并做好“一老一少”服务,为老年人提供居家护理等综合性服务,同时通过开设“4 点钟学校”解决了接孩子的实际问题。该社区治理模式的成功得益于

- ①创新了基层自治组织形式,提高基层自治组织行政效率
 - ②实现了基本公共服务均等化,解决社区居民的实际问题
 - ③发扬了社会主义协商民主优势,充分集中民智反映民意
 - ④发挥了基层群众自治主体的作用,激发居民主人翁意识
- A. ①② B. ①③ C. ②④ D. ③④

6. 2021 年 8 月 13 日,贵州省人大常委会召开关于《中华人民共和国民法典》贯彻实施情况执法检查动员会,对即将开展的执法检查工作进行检查和部署。按照《省人大常委会关于检查〈中华人民共和国民法典〉实施情况工作方案》,省政府、省检察院及省司法厅、省教育厅等 13 个厅局开展了自查,各市(州)人大常委会进行了检查,并分别提交了自查报告和检查报告。这表明

- ①执法检查是我国政府部门的一项重要监督手段
- ②各地人大常委会通过完善监督体系提高治理能力

	准考证号
	姓名
	考场
	考点

- ③开展执法检查可以保障宪法和法律的正确实施
④我国国家机关坚持民主集中制的组织活动原则
A. ①② B. ①④ C. ②③ D. ③④
7. 2021年7月26日,全国政协就促进“全面三孩”政策落地举办专题协商会。有政协委员认为,应加快制定反就业歧视法,促进妇女平等就业,解除生育三孩妇女就业的后顾之忧。同时,加大对妇女生育保险投入以及在妇女生育期间工资及福利津贴等费用,降低用人单位聘用育龄妇女成本,从而改变用人单位对育龄妇女歧视。由此可见,人民政协 ()
- ①发挥专门协商机构的作用,履行参政议政的职能
②参与国家政策的制定和执行,维护人民根本利益
③积极加强社会建设,为高质量发展凝聚力量
④作为我国参政党,为国家发展踊跃建言献策
A. ①② B. ①③ C. ②④ D. ③④
8. 党的十九届六中全会指出,在坚持“一国两制”和推进祖国统一上,党中央采取一系列标本兼治的举措,坚定落实“爱国者治港”、“爱国者治澳”,推动香港局势实现由乱到治的重大转折,为推进依法治港治澳、促进“一国两制”实践行稳致远打下了坚实基础。由此可见,坚持“爱国者治港” ()
- ①确立了“港人治港”、高度自治的治港方略
②有利于维护国家安全,减少国外势力干预
③符合香港同胞在内的全国人民的根本利益
④有利于香港特别行政区保持长期繁荣稳定
A. ①② B. ①③ C. ②④ D. ③④
9. 榫卯是我国古代建筑、家具及其他器械的主要结构方式,是一种充满中国智慧的传统木匠工艺,距今已有七千多年的历史了。凸出来的部分称为“榫”,凹进去的部分叫作“卯”。凸出的榫头与凹进去的卯眼,简单地咬合,便将木构件稳固地结合在一起了。榫卯工艺的优势是坚固耐保存、方便拆卸搬运,还不伤木质。不像钉子易腐蚀。以下说法正确的是 ()
- ①榫卯工艺特点鲜明,是中华民族创造力的生动体现
②中华文化源远流长、博大精深,始终处于世界前列
③榫卯作为一种文化符号和记忆,体现了文化多样性
④榫卯作为传统文化标志,展示了中华民族的精神世界
A. ①② B. ①③ C. ②④ D. ③④
10. 2020年10月22日,以“葡萄酒文化的对话与传承”为主题的中法葡萄酒论坛在宁夏召开。中法之间以葡萄酒为媒开展深度交流,展示了两国人民辛勤劳动创作的才能以及共享生活的艺术,拉近了两国人民距离。位于宁夏的中法葡萄酒教育学院已成为传播葡萄酒文化、培养葡萄酒人才的重要平台。这说明 ()
- ①中法两国推动文化一体化发展 ②文化是民族性和世界性的统一
③教育是推动文化传播的重要手段 ④中法通过文化交流增强政治互信
A. ①② B. ①③ C. ②④ D. ③④

11. 中国水墨画,是指纯用水墨所作之画,也称国画,是中国传统绘画。中国水墨画的作画工具是“笔墨纸砚”,其创作讲究“气韵生动”“以形写神”。中国的水墨绘画与西方的时尚潮流服饰文化相结合,以极简而多变的线条自然地融为一体,形成了独特的“墨色时尚”。这启示我们 ()
- ①文化创新来源于继承优秀的传统文化
②立足时代、善于变化是文化创造的主体
③优秀的传统文化要创造性转化,创新性发展
④文化创新要继承传统,推陈出新;面向世界,博采众长
A. ①② B. ①③ C. ②④ D. ③④
12. 官渡之战是我国史上有名的以少胜多的战役,当时曹操以两万兵力击破袁绍十万兵力,出奇制胜,成为曹操夺取北方霸权的转折点。究其原因,有人认为曹操善择良策,如依从许攸计谋,焚烧袁军粮草,使袁绍不战自败;而袁绍刚愎自用,屡拒部属的正确建议,一再错失良机。从唯物论角度,这个故事告诉我们 ()
- ①正确发挥主观能动性是出奇制胜的重要因素
②胜败乃兵家常事,其本身并无客观规律可言
③应从实际出发来分析事物,作出正确选择
④要善于把握时机,实现矛盾双方相互转化
A. ①② B. ①③ C. ②④ D. ③④
13. 我国是食用菌大国,但不是强国,食用菌菌种基本来自荷兰、美国、日本等国。为此,中国工程院院士、吉林农业大学教授李玉和团队通过科学实验创新和改进了全日光间歇迷雾栽培黑木耳等8项关键技术,颠覆了传统栽培理念,实现了“南菇北移”“北耳南扩”的食用菌发展战略,促进了菌物科学的发展及食用菌产业化升级。对此,下列分析正确的是 ()
- ①食用菌技术的创新和改进是一个主观见之于客观的过程
②颠覆食用菌传统栽培理念实现了对传统理念的全面否定
③能否应用于食用菌生产实践是检验新型栽培理念的唯一标准
④“南菇北移”“北耳南扩”等创新战略能够促进生产力发展
A. ①② B. ①④ C. ②③ D. ③④
14. 孕期吃葡萄能使胎儿眼睛变大?生活中不少孕妈为了让宝宝有一双迷人大眼,在孕期疯狂进食葡萄。对此专家辟谣:孕期即便过量摄入葡萄,也无法“打败”基因,不仅无法使胎儿眼睛变大,反而会大大增加孕妈患糖尿病的风险。对此分析正确的是 ()
- ①人们能发挥主观能动性,建立基因与葡萄之间的新联系
②要从固有联系中把握事物,主观臆造的联系是不可靠的
③在基因等自在事物的联系面前,人们往往是无能为力的
④过量进食葡萄增加患糖尿病风险,不以人的意志为转移
A. ①② B. ①③ C. ②④ D. ③④

15. 2000 年之前,中国处于一个进口洋品牌横行的时代,很长一段时间里消费者潜意识中崇尚外来文化,好莱坞、韩潮、日风一度成为那时的消费热点。但随着中国国力的崛起,越来越多的年轻人逐渐熟悉西方的审美之后,转过头发现其实中国的传统文化,相比较而言更有魅力,“国潮”审美逐渐大热。这一蜕变印证了 ()

- ①社会意识变化根源于生产生活的变化
- ②价值判断和价值选择具有社会历史性
- ③社会意识会随着时间的推移而自主变化
- ④先进的社会意识对社会存在起促进作用

A. ①② B. ①④ C. ②③ D. ③④

二、非选择题:本题共 5 小题,共 55 分。

16. 阅读材料,完成下列要求。(15 分)

2021 年 12 月 8 日至 10 日召开的中央经济工作会议指出,科技政策要扎实落地。要实施科技体制改革三年行动方案,制定实施基础研究十年规划。强化国家战略科技力量,发挥好国家实验室作用,重组全国重点实验室,推进科研院所改革。强化企业创新主体地位,深化产学研结合。完善优化科技创新生态,形成扎实的科研作风。继续开展国际科技合作。

材料一 我国高度重视科技事业发展,部分统计数据如下。

2016-2020 年研究与试验发展 (R&D) 经费支出及其增长速度



2021 年上半年规模以上高技术制造业发展情况(同比增长)

投资	产量	增加值	利润
29.7%	40%	22.6%	62%

注:研究与试验发展(R&D)经费支出是衡量国家核心竞争力、社会经济发展和技术进步的关键指标。2020 年全国研究与试验发展(R&D)经费支出与 GDP 之比为 2.4%,比上年提高 0.16 个百分点;中等发达国家的 R&D 经费支出占比为 1.46%,美国、日本 R&D 经费支出占比分别为 2.79%、3.21%。

材料二 基础研究是科学之本、技术之源、创新之魂。国务院不断完善中央财政科研经费管理和科技成果评价体系,激励科研人员潜心钻研,构建需求驱动的政、产、学、研协同创新链,疏通应用基础研究和产业化连接的快车道,

加快推动科技成果转化为现实生产力。科技部制定《基础研究十年行动方案(2021—2030)》,布局建设一批前沿领域基础学科研究中心。工信部发挥新型举国体制优势,完善以企业为主体的技术创新体系,实施产业基础再造工程,加快补齐基础零部件及元器件、基础软件等瓶颈短板,畅通产业链供应链,激活人工智能、物联网……新业态的广阔市场需求,并带动相关投资和资本市场的青睐。

(1)概括材料一所反映的经济信息。(6 分)

(2)结合材料,运用经济生活知识,谈谈国家加强基础研究的系列举措对高技术制造业发展的影响。(9 分)

版权所有

红金榜

17. 阅读材料,完成下列要求。(12 分)

近年来,我国 M 市主动通过网络听民意、察民情、解民忧,以求务实的态度走好网上群众路线,做好网上群众工作,受到广大网民的拥护和欢迎。2021 年在原平台基础上,该市“网络问政”融媒体平台正式上线,打通了 PC

端与移动端,可以通过视频、音频、图片、文字等灵活多样的方式即时问政,实现全媒体“指端问政”,进一步加固政府与人民群众“连心桥”,成为建设温暖型、服务型、效能型、智慧型政府和走好网上群众路线的具体实践。该市通过网络平台,精准发布贫困学生需求信息,对接资助资源,给贫困学子提供补助。深入推进网络扶贫行动,助力打赢脱贫攻坚战,让老百姓真正享受到互联网带来的“福利”。

结合材料,运用政府的相关知识,分析该市政府受到广大网民的拥护和欢迎的原因。

18. 阅读材料,完成下列要求。(12分)

材料 作为马克思主义执政党,中国共产党自成立以来就将全心全意为人民服务作为党的宗旨,以最广大人民的根本利益作为一切工作的出发点和落脚点。无论是革命、建设还是改革时期,党始终同人民站在一起,为人民利益而奋斗。植根于人民、造福于人民,是我们党一百年来奋斗历程的生动写照,是始终得到人民群众拥护和信赖的根本原因,更是我们党继往开来、勇往直前的不竭动力。

结合材料,运用社会历史的主体的知识,分析无论是革命、建设还是改革时期,党为什么始终同人民站在一起,为人民利益而奋斗。

19. 阅读材料,完成下列要求。(10分)

今天,我们随处都能看到社会主义核心价值观的公益广告,不仅让城市更美,让市民在欣赏的同时也获得了教育。各地以道德讲堂、新时代文明实践中心及“我们的节日”主题活动等为载体,积极宣传道德模范、时代楷模、身边好人的典型故事,推动全市形成学习模范、争当先进的浓厚社会氛围,引导公民见贤思齐、自觉培育和践行社会主义核心价值观。在学校,社会主义核心价值观宣传栏放在明显位置,学生们会背诵社会主义核心价值观。学校通过国旗下讲话、主题班会、文艺活动等丰富多彩的活动形式,将社会主义核心价值观融入校园文化。对于市民个人,我们要牢记社会主义核心价值观,在工作生活中,积极践行社会主义核心价值观,以扎实的工作、饱满的热情,一步一个脚印,携手为美好生活奋斗,凝聚成为国家民族发展的强大力量。结合材料,运用“培养担当民族复兴大任的时代新人”知识,分析弘扬社会主义核心价值观的意义。

20. 阅读材料,完成下列要求。(6分)

2021年是中国农历牛年。在中华文化里,牛是勤劳、奉献、奋进、力量的象征。人们把为民服务、无私奉献比喻为“孺子牛”,把创新发展、攻坚克难比喻为“拓荒牛”,把艰苦奋斗、吃苦耐劳比喻为“老黄牛”。前进道路上,我们应大力发扬“三牛”精神,以不怕苦、能吃苦的牛劲牛力,不用扬鞭自奋蹄,继续为中华民族伟大复兴辛勤耕耘、勇往直前,在新时代创造新的历史辉煌。请在“孺子牛、拓荒牛、老黄牛”精神中任选其一,综合运用所学知识,就当代青年如何发扬这种精神写一篇小论文。要求:有理有据,观点鲜明,逻辑清晰,不少于150字。